


# 新北市汐止國民中學 114 學年度第一學期八年級社會科補考題庫

## 一、歷史科，共 15 題：

- (B) 1. 秦始皇廢除周朝的封建制度，改行郡縣制，郡縣的長官由朝廷任免，這項重要的改革有何影響？(A)造成了以後諸侯間的爭權 (B)使中國從此成為中央集權的國家。
- (A) 2. 艾玲參加學校的日語社，老師說日文是模仿中國文字而製成。請問：日文的製成與下列哪一背景有關？(A)大化革新 (B)幕府政治。
- (B) 3. 不同的民族對於君王有不同的稱號，如中國稱為「皇帝」、匈奴稱為「單于」、突厥稱為「可汗」。而中國歷史上某個朝代，由於軍事上擊敗北方民族，皇帝獲得當時各族尊稱為「天可汗」。請問：這是指下列哪一個朝代？(A)秦 (B)唐。
- (B) 4. 《二十四孝》中記載了有個孝子叫黃香，江夏人，九歲喪母，家裡貧困，事親至孝。夏天天氣很熱，黃香就用扇子把父親的枕頭和床鋪扇涼；冬天天氣寒冷，黃香就先用自己的身體使父親的棉被溫暖，再請父親入睡。江夏的太守劉護便奏請朝廷讚揚他的孝行，後來黃香因其孝行而任官，官至尚書令。請問：黃香所處的朝代最可能為何？  
(A)東周 (B)漢朝
- (B) 5. 關於春秋五霸與戰國七雄的比較，下列敘述哪一項是錯誤的？  
(A)五霸代表東周前期的大勢，七雄代表東周後期的大勢  
(B)五霸受制於王室，七雄掌握了實權。
- (B) 6. 明代末年，天災不斷，大批的災民與饑兵相結合，到處搶掠，形成流寇。後來何人攻陷北京，導致明朝滅亡？(A)吳三桂 (B)李自成。
- (A) 7. 阿慶參加學校的宋詞古文抽背，他抽籤抽到的題目如下：「怒髮衝冠，憑欄處，瀟瀟雨歇。抬望眼，仰天長嘯，壯懷激烈……靖康恥，猶未雪。臣子恨，何時滅！駕長車，踏破賀蘭山缺。壯志飢餐胡虜肉，笑談渴飲匈奴血……。」這首詞的作者應為何人？  
(A)岳飛 (B)趙匡胤。
- (B) 8. 明初貨幣原以紙幣為主，銅錢為輔。後因紙幣濫發，嚴重貶值，民間拒絕使用，導致當歐洲人於某地開採的白銀大量流入中國後，廢棄紙幣使用白銀與銅錢並用的制度。上文中的「某地」是今天的何處？(A)非洲 (B)美洲。
- (B) 9. 耶律德光在位期間，統一部族，並獲得燕雲十六州，對長城以內的農業部族造成極大的威脅。耶律德光應該是下列哪一個部族的領袖？  
(A)蒙古族 (B)契丹族。
- (B) 10. 歷史老師在黑板上貼上如附圖的一幅漫畫，以講解北宋與某一外族簽訂的盟約。漫畫中胡人代表的是哪一國家？同時他們可能正在簽訂哪個盟約？  
(A)元，澶淵之盟 (B)遼，澶淵之盟。
- (B) 11. 阿強是清末的知識分子，他以救國救民為己任，附圖為他在宣統 3 年前後立場的轉變。阿強會有此種轉變，可能是受到下列哪一歷史因素的影響？  
(A)推行自強運動 (B)皇族內閣成立。
- (A) 12. 林樂知為晚清時來到中國的傳教士，他在中國傳教 47 年，將畢生奉獻給中國。在傳教期間，他曾主編《教會新報》，希望大眾能接受基督教義，後來發現結合時事、新知，報紙的銷路會更好，所以改發行《萬國公報》，果然獲得廣大新知識分子迴響。下列何者較不可能出現在這份刊物上？  
(A)介紹裹腳的歷史，提倡纏足 (B)甲午戰爭想像圖。



- (B) 13. 下列事件，依其發生時間先後排列，正確順序應為何？(甲)戊戌政變(乙)義和團事件(丙)戊戌變法(丁)八國聯軍 (A)甲乙丙丁 (B)丙甲乙丁。
- (B) 14. 「纏足——三寸金蓮」是中國宋代以來就有的陋習，目的有二：一、認為女性「小腳便是美」。二、只要裹小腳，女性便不易逃跑。後來此風傳入臺灣，殘害著女性的身體與心靈，故自○起，就有「有識之士」主張「天足運動」，而臺灣也自□開始，主張廢棄纏足。請問：以上缺空處，各應填入下列何者？  
(A)明末清初；清帝國統治初期 (B)清末；日治時期
- (B) 15. 美娜想要製作一本「清末時期中國女權運動發展史」，向大家介紹當時女性的生活風貌。下列哪項資料是她不能放入其中的？  
(A)晚清公立女學堂的設立 (B)女性選舉市長的廣告。

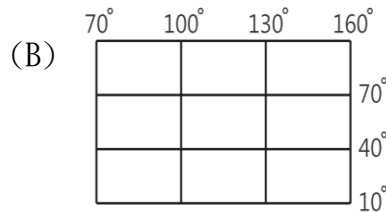
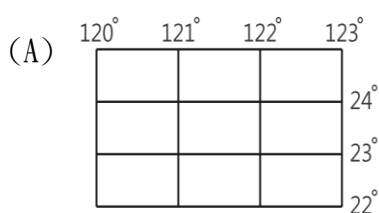
## 二、公民科，共 15 題：

- (B) 1. 我國憲法規定，對於具備「全國一致性質」的事務由中央負責，而「因地制宜性質」的事務則由地方負責。請問下列哪一項事務通常是由地方政府來負責處理？  
(A)保衛國家安全的海陸空國防事務 (B)縣市境內的都市計畫與衛生管理
- (A) 2. 關於我國地方政府組織的層級劃分與行政運作，下列哪一個行政單位隸屬於「直轄市」管轄，雖然名稱中帶有「區」字，但其性質僅為市政府的派出機關，且區長是由市長直接派任而非由當地居民民選產生？(A)台南市安平區區公所 (B)台中市和平區區公所
- (A) 3. 根據《公職人員選舉罷免法》的規定，下列何者屬於正確的選舉程序？  
(A)登記參選→競選→投票→開票→當選公告  
(B)競選→登記參選→投票→開票→當選公告
- (B) 4. 依照我國現行法律，若一位國民想要參選「縣市長」這類地方政府的最高行政首長職務，他必須年滿幾歲才具備法定的參選資格，這比參與立法委員選舉的年齡門檻還要高出許多？  
(A)年滿二十三歲 (B)年滿三十歲
- (B) 5. 在某偏鄉選舉中，一位高齡 90 歲的老奶奶因為眼睛看不清楚，要求其兒子進入圈選帷幕「代替」他在選票上蓋章，並將選票投入票箱。請問這種「找人代投」的行為，在法律上違反了哪項原則？(A)普通原則 (B)直接原則
- (B) 6. 當選舉結束後，若原本的在野黨獲得了多數民意的支持而成為新的執政黨，而原本的執政黨則成為了在野黨，這種權力和平轉移的過程，我們稱之為下列何者？  
(A)責任政治 (B)政黨輪替
- (B) 7. 近年來，有許多民間團體，如「台灣事實查核中心」，投入了查證網路訊息真偽的工作。請問，這類組織的存在，對於培養公民的媒體識讀能力，具有何種最主要的幫助？  
(A)它可以幫助媒體創造更多聳動的新聞標題  
(B)它可以提供民眾一個查證可疑訊息的可靠管道
- (B) 8. 交通警察在路上依法攔停並對駕駛人實施酒測，這個執法行為，雖然限制了人民的部分行動自由，但在民主國家中卻是必要的。這最能說明民主政治的哪一項特色？  
(A)民意政治，因為多數民意支持取締酒駕  
(B)法治政治，因為警察是依據法律授權來執行勤務
- (A) 9. 西元 2024 年，英國舉行國會大選，選舉結果由工黨獲勝，並組織了新的政府。然而英國的國家名稱、領土範圍以及在聯合國的席位都沒有因此改變。此事例最能說明下列哪項概念？  
(A)政府的更替並不代表國家的滅亡或存續中斷  
(B)在民主國家中，主權是掌握在執政黨的手中
- (B) 10. 「民意政治」是民主政治的重要特色之一，強調政府施政應以民意為依歸。下列哪一項政府的作為，最能具體展現「民意政治」的精神？  
(A)在野黨在國會中對政府的施政提出質詢與監督  
(B)政府在推動重大政策前，辦理公聽會聽取各界意見
- (A) 11. 請問依據我國憲法增修條文規定，公務員的銓敘、保障、撫卹、退休等事項，皆專屬於哪個機關的職權範圍？(A)考試院 (B)監察院
- (A) 12. 古代統治者常出現「朕即天下」、「朕即國家」、「朕言及法律」的思維，此符合下列哪一社會的特徵？(A)人治社會(B)民主社會

- (B) 13. 政府的權力必須受到憲法和相關法律規範，以避免政府濫權而隨意侵犯人民的權利。上述內容呈現民主國家政府運作的何種概念？(A)政治責任 (B)有限政府
- (A) 14. 我國憲法明文規定中央政府採行「五權分立」的制度，將國家權力區分為行政、立法、司法、考試、監察五種，由不同的機關分別行使。憲法之所以要將國家權力分散，主要目的是為了達成何種重要的政治目標？  
(A)建立各權力機關彼此相互制衡的機制 (B)提高政府施政效率與政策執行力
- (A) 15. 我國的《憲法訴訟法》規定，當人民認為自己的基本權利遭受法院確定終局裁判侵害時，可以向憲法法庭聲請裁判，由大法官進行審理。此一制度最主要體現了我國憲法中的何種原則？(A)五權分立與責任政治原則 (B)主權在民與國會萬能原則

三、地理科，共 15 題：

- (B) 1. 我國中國國土深入歐亞大陸，面積世界排名第四，其經度橫越 60 餘度，緯度南北相差 30 多度，下列哪張經緯線簡圖適合拿來繪製中國地圖？



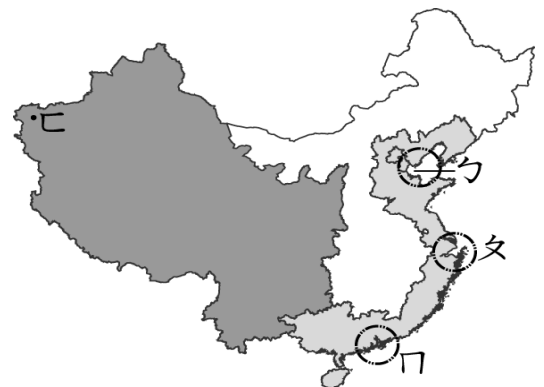
《題組一》附圖為中國主要氣候類型分布圖。請問：

- (A) 2. 圖中季風氣候與乾燥氣候的分界線，與下列哪一條等降水量線的分布最相符？  
(A)500 毫米 (B)250 毫米
- (B) 3. 圖中秦嶺、淮河所在位置與下列哪一條等溫線的分布最相符？  
(A)最冷月月均溫 18°C (B)最冷月月均溫 0°C
- (A) 4. 每逢冬季到來，中國領土南北兩端的冷熱差異懸殊，如附圖的東半部一月月均溫，哈爾濱和三亞甚至可相差 40°C 以上。請問：造成此種差異的主要原因為何？  
(A)跨越緯度甚大 (B)有無季風影響
- (B) 5. 阿寶是香港的居民，雖然這裡冬季不冷舒適，但夏季相當燠熱，讓他夏季時總會計畫去其他都市旅行、避暑。以下哪個都市最符合阿寶旅行的需求？(A)上海 (B)拉薩



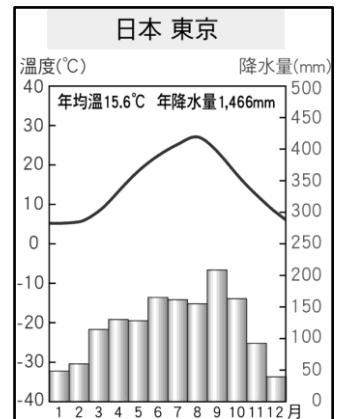
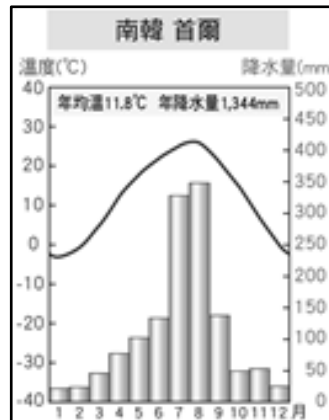
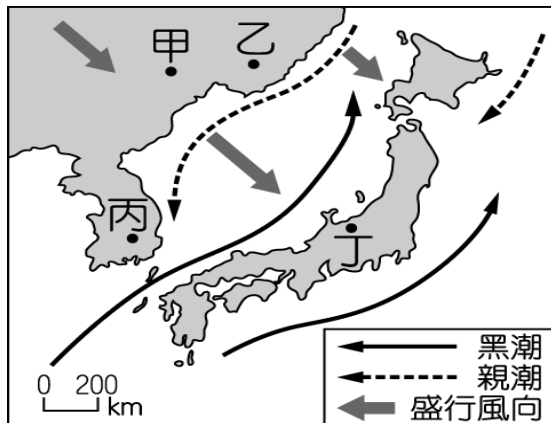
《題組二》西元 1978 年中國實施改革開放政策，附圖為中國經濟的發展起源的經濟特區設立地理位置及經濟圈標示，請問：

- (A) 6. 經濟特區的設立，成功的帶動中國經濟結構的轉變，對於「經濟特區」的敘述，下列何者不正確？  
(A)發展高科技產業 (B)多為加工出口區
- (B) 7. 中國在 1980 年代於此設置的經濟特區，也是最早改革開放的地區，長期的技術累積，加上香港、澳門大量資金的湧入，使本區成為中國最先進的新創產業中心。請問：該地最可能是指附圖中的何處？  
(A)ㄅ (B)ㄇ
- (B) 8. 有鑑於經濟特區帶來的快速經濟發展，因此於 2010 年新增設立喀什經濟特區，其地理位置向有「五口通八國，一路連歐亞」的優越條件，相當有利於發展邊境貿易。請問該經濟特區位於附圖中何處？(A)ㄇ (B)ㄊ
- (A) 9. 中國的政治與交通核心，也擁有先進的高科技研發產業，其中「中關村」有「中國矽谷」之稱。請問上述區域位在圖中哪一個經濟圈帶？(A)ㄅ (B)ㄨ



- (A) 10. 中國除經濟特區帶動發展，具有交通優勢的地方，透過運輸可以解決缺乏原料的問題，且聚集較多人口，有利工商業發展。附圖中何處是中國金融中心，並位在長江這條黃金水道的出入口，其中浦東新區商業極為興盛？(A) 甲 (B) 乙

《題組三》附圖為東北亞季風、洋流與降水量的分布圖與東京、首爾地區的氣候圖。請回答下列問題：



- (B) 11. 根據首爾的氣候圖，研判首爾的氣候應屬於下列何種？  
 (A) 熱帶季風氣候 (B) 溫帶季風氣候。
- (A) 12. 日本列島的年降水量普遍高於朝鮮半島，除了位於季風迎風面外，還受到海陸位置、洋流性質的影響，使沿岸地區水氣充足，降水較多。造成此現象的主要因素為何？  
 (A) 受到黑潮暖流影響 (B) 地處熱帶氣候地區
- (B) 13. 日本群島與朝鮮半島皆位於東北亞，同屬季風氣候，但日本群島終年有雨，朝鮮半島降水集中夏季。造成兩地降水差異的主要原因為何？  
 (A) 朝鮮半島受到高壓籠罩 (B) 日本群島冬季季風經過海洋
- (A) 14. 日本的漁業活動相當發達，如生魚片成了當地的飲食特色。請問：該國沿海漁業資源豐富的主要原因為何？(A) 寒暖流交會 (B) 海洋水域深
- (A) 15. 由附圖風向判斷，此時東北亞區域是什麼季節，吹哪一個方向的風？  
 (A) 冬—西北風 (B) 冬—東南風。