

新北市汐止國民中學 113 學年度第一學期八年級社會科補考題庫

一、歷史科，共 15 題：

- (B) 1. 附圖為中國歷史上某種官方文件的內容，根據圖中內容判斷，當時政府製作此官方文件的主要目的最可能為下列何者？

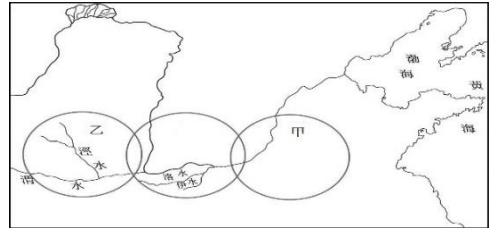
(A)配合科舉選拔人才，促進社會的流動
(B)掌握人力作為徵集賦稅和勞役的依據

建初十二年：西元 416 年。

建初十二年正月登錄戶籍	騰的妹妹 華 二歲	元的弟弟 騰 七歲	親生兒子 元 十七歲	妻子 趙 四十三歲	呂沾 五十六歲	敦煌郡敦煌縣西宕鄉高昌里
合計五人	成年男子二人	未成年男子一人	女子二人	住在趙羽塢		

- (B) 2. 西元前 16 世紀時，附圖中的甲國是黃河流域勢力較大的國家之一，乙國曾經被甲國統治，後來乙國取代甲國，統治黃河流域。文中敘述的甲國和乙國分別是下列何者？

(A)商和周
(B)周和商



- (A) 3. 歷史上，曾有人留下此主張：「重刑少賞，上愛民，民死上；重賞輕刑，上不愛民，民不死上。」主要用意是強調用嚴刑峻法，建立君主的權威加強對人民的控制。請問：這個主張在哪一個時代最為盛行？(A)秦代 (B)商代
- (B) 4. 西元前三世紀的中國，群臣曾向君主建議：「您的功業已經超越三皇五帝；古代的稱謂以泰皇最尊貴，因此謹向您獻上『泰皇』的尊號。您所頒布的律令稱為『制書』，詔告天下的文告稱為『詔書』，印章稱為『璽』。您所說的話稱『諭』，群臣要尊稱您為『陛下』。您也不再自稱為『寡人』，而改稱為『朕』」。這位君主接納了大部分的建議，改用「皇帝」的稱號。請問：這位君主是誰？(A)周武王 (B)秦始皇
- (B) 5. 綜觀歷史，我們可以發現中國史上有多次的人口南移現象，大量的人口從北方遷移至南方。請問：最早的一次人口大規模南移是在哪一次事件之後？
(A)秦滅六國 (B)匈奴入侵滅西晉
- (A) 6. 某史書中記載榜葛刺國(今孟加拉)與中國的互動往來：「永樂 6 年，其國王霽牙思丁遣使來……。12 年，又遣其臣把一濟等來朝，貢麒麟等物。正統 3 年，貢同，表用金葉。其貢物：馬、馬鞍、青花白磁、犀角、翠毛，鶯哥、蘇木、胡椒。」依據記載，請問：當時榜葛刺國與中國以何種方式互動往來？(A)朝貢貿易 (B)三角貿易
- (A) 7. 阿秀與家人出遊到東南亞的馬來西亞，他前往首都吉隆坡的華人博物館，館內展覽的重點在於強調馬來西亞與中國大陸移民的聯繫，有不少內容談到華人如何根在中國，到異鄉後生活如何艱辛。請問：阿秀較可能看到展覽談到下列哪一主題？
(A)鄭和率領船隊出洋 (B)歐洲人尋求東亞貿易市場
- (A) 8. 十七世紀時，巴達維亞總督指出在亞洲貿易的方法：「從日本得到白銀來交換中國的□□，然後再用中國的□□、黃金交換檀香、胡椒和里耳銀幣。印度紡織品可以來交換印尼的胡椒和黃金，接著用印尼的胡椒交換紐西蘭的里耳銀幣和紡織品，而用紐西蘭的紡織品又可以交換香料、其他商品和西班牙大銀元，然後我們再用阿拉伯的西班牙大銀元交換香料和其他小貨物……。」以下對於這段話的解讀，何者正確？
(A)白銀為當時主要的國際交易貨幣 (B)黃金為當時主要的國際交易貨幣
- (B) 9. 明初曾經發布以下的禁令：「禁濱海人民不得私自出海」、「申禁人民不得擅自出海與外國互市」，明初下達此種禁令的原因為何？(A)打擊鄭氏政權 (B)避免倭寇侵擾中國沿海
- (B) 10. 明朝末年，有一位歐洲傳教士隨著新航路的開通後來到中國，進而到中國進行傳教，而為了要順利傳教工作，他允許中國教徒祭拜祖先和孔子，也將西方科學知識與技術，如幾何學、西洋曆法等介紹到中國，並且與中國方面的知識分子保持良好的關係，對於中西文化交流層面影響甚深。根據上述所提及的內容當中，這一位傳教士應是何者？
(A)湯若望 (B)利瑪竇

(A) 11. 附圖為《英國紀要》一書中提到的部分內容。

請問：英使當時出使中國的目的為何？

(A) 開啟對等的商貿關係

(B) 向乾隆皇帝朝貢

(B) 12. 信宣是一位中國的官員，有一天他生氣的說：

「和外國溝通相關的特權真的是被外國人蠻橫的要求，提出其他國家享有的特權，我們國家也要比照相同的情況辦理。」請問：信宣指的應該是中國允許外國人有什麼權利？

(A) 協定關稅

(B) 片面最惠國待遇

(B) 13. 清末發生許多對外戰爭，其中某次戰爭讓外國人攻入北京，並且焚毀圓明園，開始能進入中國內地，影響了不少中國人的思想與行為模式。請問：上述「某次戰爭」應是指哪一場戰爭？(A) 清法戰爭 (B) 英法聯軍

(A) 14. 一八四〇年代，美國聖公會的傳教士向總部表示，她們試圖在中國建立教會女子寄宿學校，然而受限於中國傳統性別觀念的限制而無法招收到女學生。由此可知當時女子學校創立的困境主要為何？

(A) 中國的家長認為女孩沒有受教育的必要 (B) 中國的家長不信任外籍教師的教學能力

(B) 15. 《萬國公報》創立的宗旨包含如下：「……依雜誌體例與以發表惟一之政論時評學說為主，介紹世界新事物為輔，由重者務求識力獨到，足為中國前途之方針……。」對於該報紙的描述，下列何者說明有誤？

(A) 為美國傳教士發行的媒介 (B) 應為官方資助的媒體發行，藉此搜集民意

二、公民科，共 15 題：

(A) 1. 兩位同學正在討論某政治概念，根據表格內容判斷，兩位同學討論的應是下列哪一概念？

德德	榕榕
涵蓋範圍較大	涵蓋範圍較小
擁有主權	擁有公權力
代表人物：總統	代表人物：新北市市長
例如：推動口罩外交，成功提升國際形象	例如：基北北桃四市推動 TPASS 都會通定期票

(A) 國家與政府之間的差異 (B) 領海與經濟海域的比較

(A) 2. 日本海上自衛隊的護衛艦「連號」於今年 9 月首次通過台灣海峽，是日本海上自衛隊成立以來首次。日媒指出，為對抗中國在日本周邊採取軍事挑釁行徑，日本首相岸田文雄下令「連號」通過台海，日本對中國的嚇阻戰略邁入新階段。上述日本的行動應是基於下列何項目的？(A) 保衛國家安全 (B) 落實社會福利

(B) 3. 新北某國中生遭郭姓同學割頸殺死，讓司法院的司法改革重點之《少年事件處理法》遭致批評，不僅沒接住曝險少年，還讓受害者的正義無法獲得伸張。司法院今年 5 月底通過修正草案，有條件塗銷少年前案紀錄，目前已與行政院會銜討論過，預計本會期送○○院審議。上述○○應填入下列何者？(A) 行政院 (B) 立法院

(B) 4. 下列四條法律皆屬於我國廣義的法律，請問法律位階由強到弱依序為何？

甲：《憲法訴訟法》 乙：《噪音管制標準》 丙：《憲法增修條文》 丁：《貪汙治罪條例》

(A) 丙＝甲＞丁＞乙

(B) 丙＞甲＝丁＞乙

(A) 5. 今年 3 月底立法院內政委員會排審《海洋保育法》草案，海保署於高雄舉行公聽會，保育署副署長稱海保法可管制人為活動，除保護海洋生態環境外，也可復育海洋資源，促進藍色經濟與產業永續。不過，席間多個漁會代表對海保法立法仍然存疑，認為劃設保護區及庇護區，以及「2030 年達到 30% 海洋國土列入保護區」的目標會影響漁獲。上述海保署舉行的活動可落實下列何項民主政治的特色？(A) 民意政治 (B) 責任政治

(B) 6. 根據聯合國教科文組織指出，約 80% 的阿富汗學齡女孩和年輕女性都沒有上學，而阿富汗近 30% 的女孩從未接受過小學教育。世界必須在阿富汗女孩背後，團結一致。剝奪接受優質教育的權利，是卑劣無恥的行為，違反了《聯合國憲章》、《兒童權利公約》和基本人權。上述新聞指出我國《憲法》所保障的哪些權益？(A) 平等權、自由權 (B) 平等權、受益權

(B) 7. 下列何者最可能是大法官職權所在？(A) 嚴謹審核總預算案 (B) 認定死刑是有條件合憲

乾隆 58 年，我國以祝壽的名義派遣馬加爾尼使節團前往中國，但最後卻因為與中國天朝上國的觀念不合，並未達成出使的目的。

(B) 8. 對於中央政府的年度預算案與決算案，分別進行審核的機關為下列何者？

(A) 行政院、立法院

(B) 立法院、監察院

(B) 9. 從右圖網站內容可以判斷出，此機構應為下列何者？

(A) 司法院 (B) 考試院

113-11-08 考選部與元培醫科大攜手打造電腦試場造福新竹學子
113-11-01 警察升官等測驗如期舉行，如因交通中斷無法應考…
113-10-30 通過第二次專技高考營養師等 7 類科核備案

(B) 10. 下列何者屬於自由權？(A) 報考海巡特考 (B) Youtuber 在頻道推廣極限運動

(A) 11. 我國中央政府與地方政府的分權方式，是依據事務的性質來劃分，全國一致給中央，因地制宜給地方。上述的分權方式是屬於下列何者？(A) 均權制度 (B) 中央集權

(A) 12. 根據我國地方政府層級分類，下列何者與高雄市屬於同一層級？

(A) 台南市、桃園市

(B) 新竹市、新北市

(A) 13. 在我國，最常見的政治參與方式為下列何者？(A) 選舉投票 (B) 加入政黨

(A) 14. 美國選舉人團於 12 月 17 日投票結果確認，川普和副手范斯取得 312 張選舉人票，正式確認當選美國總統，賀錦麗和華茲則取得 226 張選舉人票。上述所提及美國公職人員的選舉，若在我國，具有選舉權的選舉人必須至少設籍滿幾個月才能投票？(A) 6 個月 (B) 4 個月

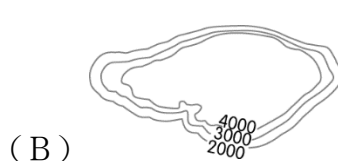
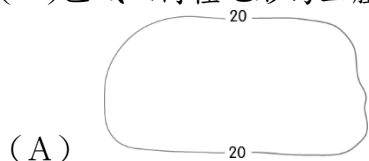
(A) 15. 據路透社報導，梵諦岡過去女性只被允許以旁聽身分出席教宗諮詢機構「世界主教代表會議」，沒有權利投票。羅馬天主教教宗方濟各 (Pope Francis) 在 2023 年 10 月舉行的全國主教會議上首度允許女性投票，讓 5 名修女有投票權，這項歷史性舉措可讓羅馬天主教的決策更具包容性。上述梵諦岡的做法，符合我國下列何項選舉原則？

(A) 普通原則

(B) 平等原則

三、地理科，共 15 題：

(A) 1. 中國面積廣大，五大地形複雜，地勢分為高、中、低三階。請問：低階的區域主要以附圖(一)區域以何種地形為主體？



附圖(一)

(B) 2. 承上題，下列何者並非中國三階地形起伏特徵所造成的影響？

(A) 人口分布呈現東密西疏

(B) 東西部居民的作息不同。

(B) 3. 中國氣候受到地形、季風、緯度、距海遠近等因素，各地差異大。附圖(二)為中國某一氣候資料的等值線分布圖，圖中某數值卻是甲<乙<丙<丁，則該氣候資料應為下列何者？

(A) 氣壓變化

(B) 年降水量。

(A) 4. 每逢冬季到來，中國領土南北兩端的冷熱差異懸殊，東半部一月月均溫甚至可相差 40℃ 以上。請問：造成此種差異的主要原因為何？(A) 跨越緯度甚大 (B) 地勢高低不同。

(A) 5. 地理老師在電子白板畫出如附圖(三)的示意圖。請同學們根據示意圖，分組討論中國人口特色，請於下列敘述選出最佳或正確的結論：

(A) 寶綠組：中國人口分布不均

(B) 蛋黃組：中國一胎化政策對人口的影響

附圖(三)

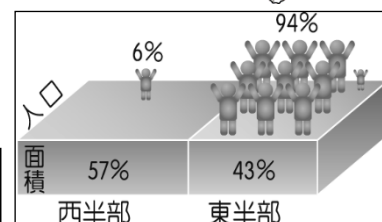
(B) 6. 農業發展受到自然環境的因素影響，形成不同類型的耕種方式。附圖(四)為世界前六大面積國家的人均可耕地面積比較圖。請問：中國的人均可耕地面積大小，最主要受到哪一因素影響？

(A) 地形複雜

(B) 人口數量



附圖(二)



(國家) (公頃/人)



附圖(四)

- (A) 7. 右圖為中國水資源短缺省區市圖，根據此圖水資源缺乏的地區原因，可能是受到哪些因素的影響？(甲)人口增長 (乙)農業技術提升 (丙)工業快速發展 (丁)年降水量分布不均
(A)甲丙丁 (B)甲乙丁。

- (B) 8. 承上題，中國政府實施【南水北調】工程，將【 】流域豐沛的水資源，輸送到水資源不足的北方流域。請問【 】流域為下列何條河川？
(A)珠江 (B)長江

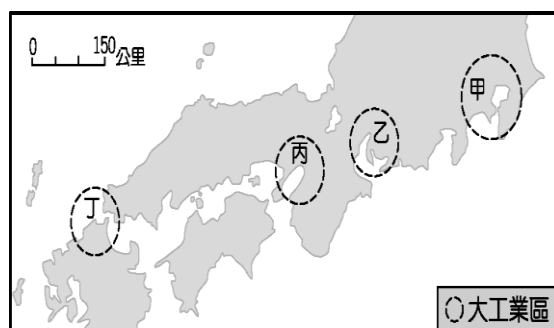
附圖(五)



- (A) 9. 自古朝鮮半島的居民以醃製、發酵的方式保存食物，2021 年韓國官方為了和中國四川泡菜有所區分，已公告中文正式譯名為「辛奇」，在歐美的使用名稱為「kimichi」。請問：朝鮮半島的泡菜由來與當地何種自然環境特徵有關？
(A)冬季嚴寒，生長季短 (B)地勢高聳，年溫差小。
- (B) 10. 妮妮觀察朝鮮半島的夜間衛星影像圖，會發現南、北韓大不同。北韓除了首都平壤之外，其餘地方多呈現一片黑暗的景象。請問：導致該國出現此一特徵最主要的原因可能為何？
(A)缺乏礦產資源，工業基礎薄弱 (B)實施共產獨裁統治，不重民生基礎建設。

《題組一》附圖為日本境內重要的工業區分布圖，請回答下列問題：

- (B) 11. 日本的工業區遍布於太平洋岸港口地區，這和該國哪一項特色的關係最大？
(A)海岸平原廣大 (B)進口原料出口產品
- (B) 12. 日本工業區此種分布情況與下列哪一項工業區位考量最相關？(A)勞工眾多 (B)運輸便利。
- (A) 13. 隨著薪資高漲及人口老化，日本為降低生產成本，將部分產業移至下列哪些工資較低廉的國家？(A)中國、東南亞 (B)中國、印度。



《題組二》中國在改革開放後，經濟發展上見到成效，和美國並列為世界兩大經濟強國，其國內生產毛額及對外投資金額高居世界第二、消費量更成為世界之首。近年來中國為擴展自身經濟版圖與國際影響力，在 2013 年推出「一帶一路」的經濟政策，其規畫路線圖如附圖所示，請問：

- (A) 14. 一帶一路計畫包含了兩個交通路線，其中「絲綢之路經濟帶」主要串聯哪兩洲的商業運輸？
(A)亞洲、歐洲 (B)非洲、歐洲。
- (B) 15. 「一路」是「海上絲路」，自中國東南沿海出發，往南經過南海再往西通過蘇伊士運河直達歐洲。請問：海上絲路途中會經過下列哪兩個海域？
(A)大西洋、印度洋 (B)太平洋、印度洋

