

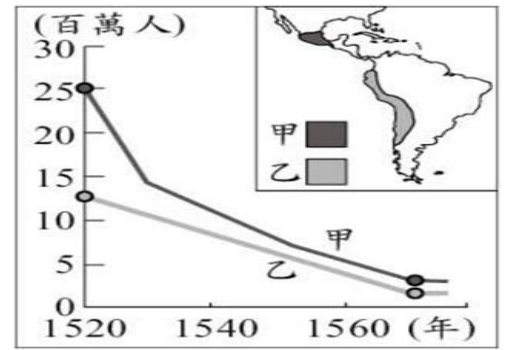
新北市汐止國民中學 113 學年度第一學期九年級社會科補考題庫

一、歷史科，共 15 題：

- (A) 1. 現今希臘、土耳其等國，都曾是東羅馬帝國的疆域範圍，我們拜訪這些國家時仍可以看到東羅馬帝國所遺留下來的歷史建築，如在土耳其伊斯坦堡的聖索非亞大教堂。有關東羅馬帝國的敘述，下列何者正確？
(A)定都於君士坦丁堡，又被稱為拜占庭帝國 (B)採用封建分封的體制統治政權
- (A) 2. 美國國會大廈眾議院裡刻有由權威人士所選定的 23 位著名立法者的浮雕，其中有位人物頒布了依循報復原則的法典，同時也是 23 位立法者之中年代最早的一位。請問：該人物最有可能出自於哪個民族？(A)商業交易頻繁的巴比倫人 (B)信仰耶和華的希伯來人
- (A) 3. 十八世紀的英國歷史學家愛德華·吉本，把古羅馬從涅瓦爾到奧里略統治的期間，讚譽為「人類最幸福的年代」。這個時期的古羅馬政治穩定、交通方便、經濟繁榮。但自奧里略死後，外族入侵，內戰發生，羅馬陷入混亂，結束了「羅馬和平」的時代。請問：上述的羅馬盛世較可能始於哪一時期？(A)帝國時期 (B)共和時期
- (B) 4. 世界四大古文明均屬於大河文明，因為河水的灌溉，帶來肥沃的土壤、高度發展的農業、穩定的社會，甚至是強大的王國。四大古文明中，有個環境相當惡劣，處於沙漠地帶，但卻有高度的文化發展，所以希臘史家希羅多德曾讚美這個文明是源於該條河流的贈禮。請問：下列何者是這個文明留下的文化遺產？(A)祆教 (B)象形文字
- (A) 5. 阿淞一直不懂為什麼希臘會發展為各自獨立的小城邦，而不是一個大帝國。請問：希臘地區多為獨立城邦的主要原因為何？(A)希臘多山，地形崎嶇 (B)人種複雜，互不妥協。
- (B) 6. 西元 2002 年，英國廣播公司舉辦「最偉大的 100 位英國人」票選活動，其中第五名是以文學創作著稱的作家與戲劇家，他所寫的經典名句，例如「To be, or not to be, that is the question」(翻譯：生存還是毀滅，這是一個值得考慮的問題)，至今仍為英國人津津樂道。請問：這位人物應該是下列何者？(A)但丁 (B)莎士比亞
- (A) 7. 被譽為文藝復興三傑之一的達文西，對於解剖學相當沉迷，也繪製了許多與人體有關的畫作，以及留下有關解剖知識的手稿。達文西將對人體的理解運用到繪畫上的這點，反映出文藝復興時期與中古時期的繪畫有何種不同？
(A)文藝復興時期的繪畫較重視立體寫實 (B)文藝復興時期的繪畫較重視宗教理念
- (B) 8. 近年來，隨著數位技術的提升，許多博物館開始推廣線上展覽，方便民眾在家即可享有豐富的藝文之旅，其中法國的羅浮宮更是提供了有關文藝復興時期名畫的虛擬實境體驗。請問：這個展覽的名稱最有可能是下列何者？(A)柏拉圖個展 (B)拉斐爾特展
- (A) 9. 「這位十四世紀的作家寫過多首十四行抒情詩，且強調以古典文學作為修養的手段及社會行動的指導，他的努力改造了中古時期義大利的修辭學，是故被後世稱為『文藝復興之父』。」請問：該作家最可能為下列何人？(A)佩脫拉克 (B)荷馬
- (B) 10. 文藝復興(Renaissance)一詞源自於義大利語 Rinascimento，意思是再生或復興，旨在重現希臘、羅馬古典文化的同時，也象徵中古時期的終結，新時代來臨的生機再現。請問：中古時期協助保存古希臘、羅馬典籍有貢獻者，不包含下列何者？(A)阿拉伯人 (B)土耳其人
- (A) 11. 現代西方歷史學上，對於文明的起源，比起四大文化古國，更傾向「文化搖籃」這一說法。西方學者認為除了歐亞大陸的四個文化發源地以外，在美洲還有兩個文化可以稱為文化搖籃，即位於現代墨西哥的馬雅文化，以及位於現代秘魯的哪一個文化？
(A)印加文化 (B)阿茲提克文化
- (B) 12. 西元 2019 年底起，新冠肺炎疫情在短時間內傳染至全世界。回顧人類歷史上，自十五世紀以來世界貿易體系不斷完備後，許多疾病也因此迅速傳染至世界各地。請問：造成疾病迅速傳染的原因為何？(A)新作物 (B)交通革新
- (A) 13. 一則引起了國際社會關注的新聞：
請問：對於這次澳大利亞各地抗議活動，原住民要求「殖民者哪來的回哪去」，其殖民者所指為何者？
(A)英國 (B)荷蘭

就在澳大利亞國慶日當天，澳洲各地原住民紛紛走上街頭掀起抗議示威，他們高喊「取消澳大利亞國慶日慶祝活動」、「殖民者哪來的回哪去」、「殖民者滾回老家」的口號，同警方發生了激烈衝突，其中首都的抗議遊行規模已經達到了上萬人。

- (A) 14. 附圖是十六世紀時甲、乙兩地原住民人口數量估計值的變化。下列關於此兩地原住民的敘述，何者正確？
 (A) 甲、乙兩地的原住民被統稱為「印第安人」
 (B) 人數下降原因是遭歐洲人販賣至美洲為奴
- (B) 15. 阿信老師上課時提到，明萬曆 28 年中國人口約一億五千萬人，至清乾隆 55 年增至 3 億人口。針對此現象，她向同學解釋了數點原因。其一是因清朝初年的太平盛世，使得人口增長。此外，下列何項原因也是有可能提及的部分？
 (A) 鐵製農具的使用 (B) 外來作物的傳入



二、公民科，共 15 題：

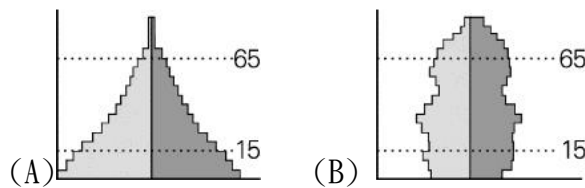
- (B) 1. 右列是台灣知名煙波大飯店推出的相關活動。請問：三項活動皆屬於下列何者？
 (A) 金錢誘因 (B) 正向誘因
- A. 便民服務，提供飯店入住前寄放行李服務
 B. 樂齡方案，入住旅客有長者，給予優惠並贈送紅酒一瓶
 C. 綠色行動，自行攜帶備品旅客，可參加抽獎活動
- (B) 2. 右表是 904 計畫在國中教育會考後的班級小旅遊。每項活動的心理滿足程度不同，如果 904 最後選擇一起去小巨蛋溜冰，那班上的機會成本為何？
 (A) 在地水返腳公園歡樂遊
 (B) 樹林吃辣炒年糕看籃球
- | 904 小旅遊 | 心理滿足程度 |
|------------|--------|
| 在地水返腳公園歡樂遊 | ★★ |
| 樹林吃辣炒年糕看籃球 | ★★★★★ |
| 小巨蛋溜冰滑倒一日遊 | ★★★ |
| 淡水浪漫騎單車賞夕陽 | ★★★★ |
- (B) 3. 下列何人是生產者？(A) HBL 冠軍隊教練王牌小榕 (B) 在夜市擺攤賣白糖粿的小德
- (A) 4. 今年母親節到來前兩週，彰化田尾鄉農會便表示，農村人口嚴重老化、導致大缺工，加上先前天氣不穩、雨量過度集中，使得原本就減產的康乃馨育成率欠佳，比起往年產量減少約 3 成。然而在疫情過後，台灣各地皆紛紛響應慶祝母親節活動的氛圍下，康乃馨價格應最可能為下列何者？(A) 價格持續上漲 (B) 價格持續下跌
- (A) 5. 根據台電規劃，將全台用戶分為 A 到 I 共 9 組，其中 H、I、J 為國防、交通等特殊用途組，不列入限電規劃，其餘民生用電 6 組，將會在有需要時進行限電。此外，在遭逢戰時或大規模天災等緊急狀態時，能源與電力供應至為重要。首先在確保「政府持續運作」以維持政府職能發揮，同時維持民生部門的民眾基本生活、進而維繫「產業持續運作」。而核心就在提昇電力供應的韌性，滿足的安全目標依序為政府 / 軍事持續運作、民生部門、醫療部門、生產部門、工業部門。上述政府的作法考量到下列哪一個經濟學概念？
 (A) 機會成本 (B) 增加金錢誘因
- (B) 6. 因食安風波於 104 年底起發起的「減頂行動」，讓許多民眾到賣場秒買秒退，掀起一股減頂風潮，其中一項減頂商品便是「林鳳營鮮奶」。為了挽回消費者信心，林鳳營不僅強打溫情廣告，全面換新包裝；此外，味全也表示，林鳳營鮮乳將以成為台灣第一瓶透明鮮乳重返國內鮮乳市場，並提出食安三大行動，消費者只要用手機掃描新包裝外的 QR code，就能獲得三大乳源區、製程和檢驗資訊，透過全新上線的「產銷透明系統」，落實從牧場到賣場的資訊透明化。上述主要是希望藉由哪一類型的競爭，來增加消費者的購買意願？
 (A) 價格競爭 (B) 非價格競爭
- (B) 7. 在日本擁有高人氣的 McGriddles「厚鬆餅堡系列」，台灣麥當勞 11 月 13 日正式開賣，至 12 月 17 日（或售完為止）限期販售，推出「豬肉蛋厚鬆餅堡」、「豬肉厚鬆餅堡」及「火腿蛋厚鬆餅堡」3 款選擇。有網友發文，6 點開始營業，清晨 5 點到麥當勞已經大排長龍，而網友透露，大概 6 點 31 分就已經完售。上述業者的行銷手法對於消費市場的影響，下列敘述何者最適當？
 (A) 業者的行銷手法將提高市場競爭程度 (B) 民眾的購物意願受非金錢誘因影響而提高

- (B) 8. 台中豐原廟東商圈的美容店與交友聯誼社，因頻繁傳出消費糾紛，被市府列為觀察名單。此間美容店的店員會遞上小贈品甚至圍住民眾，塗抹試用化妝品，但這樣的銷售手法引起不少爭議，有人退款不成還背上分期卡債，甚至拿不到商品等。另外，同商圈的這家交友聯誼社則是被消費者指控，2 年課程要價 8 萬，想退費卻困難重重，業者也拒絕解約。上述事件可如何處理？
(A) 依《公平交易法》，可對店家進行制裁 (B) 通知消費者保護處，要求業者妥善處理
- (A) 9. 總統蔡英文過去曾無預警召開記者會，宣布 2021 年起開放含瘦肉精「萊克多巴胺」的美豬，以及 30 個月齡以上的美牛，但農委會草案預告期僅 7 天，招致外界批評是突襲式開放。然而，早在 2007 年，美國就曾施壓要求開放含瘦肉精的美豬，但另一方面，又擔心進口後會有狂牛症和瘦肉精等問題。這項開放與否的政策是哪兩方面的衝突？
(A) 國際貿易與食品安全 (B) 國際貿易與市場物價
- (A) 10. 下列哪一種情境符合「看不見的手」？(A) 秀泰影城電影票價 (B) 疫情期間口罩價格
- (B) 11. 某官員在接受質詢時說：「近來因國際投資客將大筆資金投入我國金融市場，使得新台幣相對美元大幅升值，為避免過度升值對我國出口貿易產生不利影響，我們將會適時介入影響新台幣的匯率、控制貨幣數量，以維持物價的穩定。」下列何者最有可能是上述官員任職的政府機關？(A) 台灣銀行 (B) 中央銀行
- (B) 12. 首位台裔 NBA 球星、現效力 TPBL 新北國王隊的籃球選手林書豪開新車！林書豪交車義大利 Maserati Levante GT Performance 成為他兼顧駕馭樂趣與日常代步需求的跑旅座駕。請問：他應該在歐元兌換新台幣匯率產生甚麼變化時，從義大利購入該跑車最划算？
(甲) 歐元升值 (乙) 歐元貶值 (丙) 新台幣升值 (丁) 新台幣貶值 (A) 乙丁 (B) 乙丙
- (A) 13. 下列哪一個人所從事的屬於「市場勞動」？
(A) 娃娃車司機小岑載幼稚園小朋友上學 (B) 江爺爺小岩在家幫忙照顧三胞胎孫子
- (B) 14. 迎接 2025，日本東京迪士尼，米奇米妮、王子公主和服大遊行，吸引全球粉絲朝聖，旅行社業者指出：「日本團詢問度，其實有成長兩至三成，目前過年商品都已經銷售超過九成以上，幾乎是完售。」跨年後緊接著是農曆年 9 天連假，台灣遊客蓄勢待發、旅行社日本行程幾乎完銷。上述新聞報導，最可能是下列何項情形？
(A) 個人偏好，新台幣相對日幣貶值 (B) 個人偏好，新台幣相對日幣升值
- (A) 15. 2023. 10. 07 巴勒斯坦武裝組織哈瑪斯對以色列發動攻擊，以色列隨即針對其據點加薩展開圍攻。時間飛逝，加薩戰事已過一週年，加薩已有超過 4 萬 1000 人喪生。無國界醫生基於人道救援，第一時間到加薩提供緊急醫療援助，他們一直在加薩開展骨科和整形外科、物理治療、燒傷護理、心理保健以及抗生素抗藥性研究和治療等專案。上述底線處所提到的社會服務，可以為社會帶來何種正面的影響？
(A) 對社會重要的多元性有所貢獻 (B) 為政府與企業帶來極高的利潤

三、地理科，共 15 題：

- (B) 1. 許多人常把歐元＝歐盟＝申根區混為一談，這部份沒先弄清楚就貿然安排行程甚至直接出發，會造成很多不必要的問題及白花許多冤枉錢。請問到下列哪些國家時，口袋裡的歐元毫無用武之地，當地不使用歐元？(A) 瑞典、丹麥 (B) 德國、法國
- (A) 2. 近來東歐遭受數十年來最嚴重的降雨，造成洪水和大規模破壞，至少 8 人死亡。德國南部、奧地利、波蘭、捷克和斯洛伐克的部分地區已發布最高級別的紅色警報。東歐主要河川水位暴漲，下游地區當局下令預警性撤離。歐盟領袖表示願意協助各成員國應對暴雨，請問上述暴雨導致水位暴漲的為哪條河川？(A) 多瑙河 (B) 萊茵河
- (B) 3. 許多電影中我們不難發現英國紳士們手裡總是拿着一把雨傘，但事實上英國紳士手拿雨傘的位置本是屬於拿手杖的，即所謂的文明杖。其傳統在英國很早就出現，主要是手持拐杖能讓男士在走路時步伐大小一致，保持文雅，但也因長時間在外奔波，易受到當地氣候影響，再加上雨傘與手杖外形相似，自然就被雨傘取代了，請問下列有關影響英國當地氣候的敘述，何者「錯誤」？(A) 鄰近海洋，年溫差小 (B) 副熱帶高壓壟罩

- (B) 4. 別以為歐洲人福利好，早早退休享受生活，歐洲現今的趨勢宛如電影《高年級實習生》的劇情，政府正努力把「高年級生」留在工作崗位，目前歐洲 55 到 64 歲的勞動力參與率已超車台灣，面對人口結構的轉變，歐洲新趨勢企業雇主都想盡辦法讓老員工延後退休，增加新員工也會優先考慮年紀大的，因為雖上了年紀，但累積的工作技能卻難以取代。請問歐洲的人口結構為何？



- (A) 5. 歐洲自從羅馬帝國解體以來，歷史上也曾經出現過好幾個實力強大的政體，而且它們也都有統一歐洲的慾望，但是最終都以失敗告終。但為什麼一片大平原的歐洲卻分裂成好幾國，而地理環境複雜的中國卻實現了統一，主要就是因為平原難防守，往前攻擊又要考慮自己的後方，如果發生多線作戰，想獲勝更是難上加難，請問上述廣闊的平原地形『不包含』下列何處？(A)南歐 (B)西歐

- (B) 6. 2022 年，俄羅斯因入侵烏克蘭引發國際社會的譴責，其軍事行動對全球經濟、能源和糧食安全帶來深遠影響。此事件導致歐洲決定採取何種措施來減少對俄羅斯的依賴？

(A)進口電動車減少石油消耗 (B)開發新能源減少俄羅斯能源進口

- (B) 7. 美國總統當選人川普本次競選依然將邊境及移民問題作為頭號政見之一，但不同於第一次競選時主打的邊境圍牆，新政府將專注於內部執法、遣返及驅逐，並開始大規模拘留和驅逐非法移民。然而現代美國的移民結構已經和過去大不相同，來自拉丁美洲和亞洲的移民成為美國移民新主力，請問拉丁美洲裔和亞裔的比例依序為右圖何者？

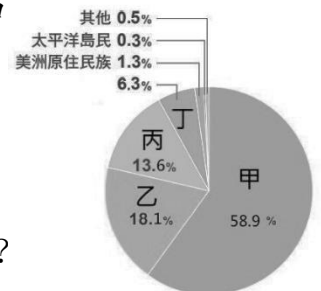
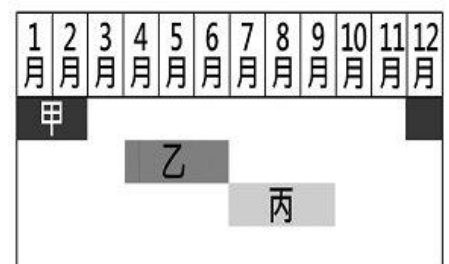


圖 1-5-10 美國族群比例圖 (資料來源：美國普查局，2019 年)

- (A)甲、乙 (B)乙、丙

- (A) 8. 近幾年來台灣到中美洲的瓜地馬拉觀光的人數成長快速，去過的台灣人大都知道瓜地馬拉擁有豐富的自然和人文美景，但可能很少人知道，去瓜國學□□語真正是物美價廉，如同台灣人喜歡去菲律賓學英語一樣，已蔚為國際趨勢。遍佈瓜國全境的□□語學校，擁有極具競爭力的優惠價格，一對一教學方式也與典型的語言課程不同，請問上述的語言應是下列何者？(A)西班牙語 (B)義大利語

- (A) 9. 氣候變遷問題拉警報，美國各地極端氣候災害頻傳，颶風、龍捲風和暴風雪肆虐不僅美國政府措手不及，全美保險業者也不堪負荷，許多保險公司決定提高保費或排除天災保障項目，右圖為美國常見氣候災害的出現時間，有關乙災害，請問下列敘述何者「錯誤」？



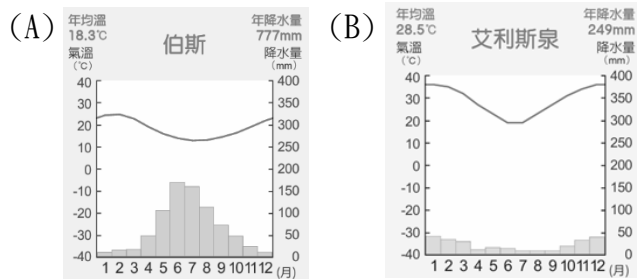
- (A)常出現在加利福尼亞州 (B)最佳生成地形為北美大平原

- (B) 10. 俄羅斯是公認的戰鬥民族，但所謂的戰鬥民族，其實並不代表它最能打。看歷史上，俄羅斯在很多戰役中，甚至是大部分戰役中，都打得很爛，沒有甚麼代表性的大勝。俄羅斯入侵烏克蘭戰爭也是打得零零落落，二戰以後維持神秘又強大的俄軍形象，這次完全葬送在入侵烏克蘭的長達 2 年仍未結束的戰爭中。請問有關俄羅斯民族的敘述下列何者「錯誤」？

- (A)多為斯拉夫人 (B)西伯利亞人口多在北極海沿岸

- (B) 11. 西班牙、德國和美加等西方國家，近期向「秘魯」返還古文物，這些來自前西班牙時期，被西方國家掠奪的物品，從陶瓷到重要的原住民藝術品都有，最古老的物品可追溯至西元前 200 年。請問上述的原住民藝術品，指的是下列何原住民文化？(A)馬雅 (B)印加

- (A) 12. 台灣國際開放市場的關鍵第一役登場。2013 年，台灣與紐西蘭簽訂了台紐自由貿易協定，2025 年起，將全面零關稅讓紐西蘭鮮奶長驅直入。農業部為因應衝擊，對上百名酪農承諾 5 大政策，其中一項就是班班喝鮮奶政策，但實際招標金額過低，無法頻繁配送鮮奶，各校也無冷藏設備，多數因考量食安都改喝保久乳，批評聲四起。請問紐西蘭為畜牧業大國，其優勢何者正確？(A)地廣人稀，採天然放牧方式 (B)雨量豐沛，牧牛業多在東側
- (A) 13. 許多台灣人為了邊工作邊玩，常選擇去澳洲打工度假，但眾多作職缺下，哪一個是最好賺的呢？在澳洲有著 3 年打工經驗的網紅，日前公開在葡萄場的工作日常，並表示剪葡萄非常好賺，完全不會累，一天可賺 12000 元台幣，請問若想抓準當地收成時去打工，可參考下列哪張氣候圖？



- (B) 14. 因為氣候變遷的因素，某國遭遇 70 多年來最嚴重的乾旱，導致野火不斷，並且毀壞了 20% 當地阿拉比卡咖啡豆產地。該國是世界上最大的咖啡生產國，因此從今年（2025）起，全球的咖啡價格可能會上漲。請問有關上述該國的咖啡，下列敘述何者「**錯誤**」？
(A)上述的國家為巴西 (B)經營型態為粗放農業
- (B) 15. 拉丁美洲貧富差距日益嚴重，在整片拉丁美洲大陸，窮人用磚塊、廢金屬和木材在山壁邊緣搭建「房舍」，以求遮風避雨的景象到處可見。根據報告指出，拉美地區有 1 億 1300 萬人口住在貧民區裡，占拉美總人口的 20%，加劇了不平等和社會排斥現象。而目前拉丁美洲 6 億總人口中有 80% 的人口住在城市，都市化程度也是全球中比例最高的。請問造成此現象其原因為下列何者？(A)都市發展快速 (B)鄉村推力太強