

新北市汐止國民中學 113 學年度第一學期七年級社會科補考題庫

一、歷史科，共 15 題：

- (A) 1. 新北市八里的十三行博物館與臺東縣卑南的臺灣史前文化博物館，分別展出當地發現的史前文物。下列何者不是兩者都會展出的內容？ (A)金屬器物 (B)磨製的石器
- (A) 2. 十六世紀後期，各國商人紛紛來到亞洲地區從事貿易，其中日本人曾經要抵達「高山國」進行朝貢，最後沒有完成目的；這裡的「高山國」是指下列何處？ (A)臺灣 (B)中國
- (B) 3. 同學們輪流上臺介紹臺灣各原住民族。玉華上臺時說道：「他們人數較多，主要分布在花蓮、臺東兩地的海岸平原與縱谷平原。為了慶祝豐收，他們每年都會舉辦盛大的豐年祭感謝神靈庇佑，吸引許多人的參與……。」她最可能是介紹下列哪一原住民族？

(A)賽夏族 (B)阿美族

- (A) 4. 一本歷史書籍記載如下表的歷史事件，這些事件敘述的時間與西元世紀對應何者錯誤？

(A)	16 世紀(1652 年)	漢人郭懷一抗荷
(B)	16 世紀(1557 年)	葡萄牙取得亞洲殖民地

- (A) 5. 「十七世紀時，臺灣某地區的許多原住民能夠閱讀西班牙文，而在當時的歷史記載中，荷蘭人在此地區探查金礦時，需要會說西班牙話的人才，並且以銀幣作為餽贈原住民的禮物。」此地區最可能位於附圖中何處？(A)甲 (B)乙

- (B) 6. 清朝文人筆記中記載了一段臺灣平埔族人的觀感：「紅毛強，犯之無噍類，鄭氏來，紅毛畏之逃去，今鄭氏又為皇帝剿滅，盡為臣虜，皇帝真天威矣。」原住民口中的皇帝和代天行威的人物分別為何者？(A)順治皇帝、鄭成功 (B)康熙皇帝、施琅。

- (B) 7. 某一時期，某人認為臺灣土地肥沃、物產豐富，建議政府應善加防守，只要將內地的部分軍隊移防臺灣，便可確保東南數省之安全。請問：提出上述想法與建議的相關歷史背景為何？

(A)清朝入主北京，鄭成功進占臺灣為基地
(B)鄭氏降清後，施琅強化臺灣防務的建議。

- (A) 8. 有一段文獻：「□是治理臺灣的最高行政官員。當公司逐漸征服各地原住民後，即分設北部、南部、東部及淡水四個地方集會區，由公司每年定期在大員召開會議。□於會中除宣達施政措施、要求與會長老效忠外，還授予長老維持村落秩序的權力。」請問：上文中的□，應填入下列何者？(A)臺灣長官 (B)臺灣總督。

- (B) 9. 附圖是清康熙年間由西洋傳教士繪製的臺灣地圖。此圖只繪製臺灣西半部，反映出當時清廷治臺的何種政策？

(A)禁絕漢人渡臺，防止臺灣成為反清基地
(B)施行畫界封山，禁止漢人入侵原住民區。

- (B) 10. 臺南孔廟號稱「全臺首學」，建於 1666 年，是臺灣最早設立的孔廟。請問：臺南孔廟是何人主政時修築的？(A)鄭成功 (B)鄭經。

- (B) 11. 一群未必具有血緣關係的同姓者，祭祀在中國的遠祖，這種祭祀對象是指何者？(A)開臺祖 (B)唐山祖。

- (A) 12. 小美到便利商店購買飲料時，發現瓶上的標示如附圖，此洋行最初是在清帝國時期由英國商人所設立，現在則為臺灣的進出口貿易公司。請問：此洋行最可能是下列何者發生後始設立於臺灣？

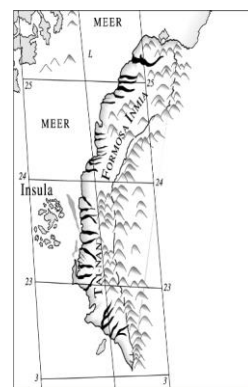
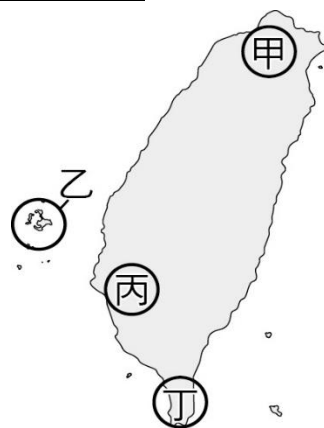
(A)英法聯軍之役 (B)清法戰爭。

- (A) 13. 洪賦與清銘是清帝國時期的臺灣商人，分別屬於「泉郊」和「廈郊」。請問：這種區分的方式，是以何者為標準？

(A)貿易區域 (B)貿易商品。

- (B) 14. 清帝國時期，臺灣社會常常發生械鬥的情事或官逼民反的事件，因此常造成社會動盪不安。請問：引起上述情況的主要因素應為何？

(A)漢人的本性勇武好鬥，引起社會動盪 (B)移墾社會的生存競爭激烈，利益衝突嚴重。



(B) 15. 農業開墾必須有灌溉設施的配合，才能使荒地變成良田。下列有關臺灣在清帝國時期，修築完成的水利灌溉工程及其灌溉區域的配對，何者正確？

(A) 臺北地區→八堡圳

(B) 鳳山縣城、打狗一帶→曹公圳。

二、公民科，共 15 題：

(B) 1. 有句臺語俗諺「囡囡人有耳無喙」，意思就是小孩子有耳朵沒嘴巴。指叫小孩聽話就好，不要多問。這是影響到何項兒童權利？(A) 禁止歧視 (B) 尊重兒少意見。

(A) 2. 全世界約有 1 億 2000 萬名難民，全球每 69 人中就有 1 人是難民或流離失所者。在我們日常生活中，他們並未受到關注。戰爭、迫害、武裝衝突、天災、貧窮和鎮壓等原因，迫使他們逃離自己的家鄉。在尋求安全的路上，他們仍面臨暴力、拘禁、奴役或虐待，缺乏乾淨用水和食物，導致疾病和營養不良，這些都威脅著流離失所者的身心安全；當落腳於難民營中，雖然暫時安全了，但擁擠和衛生條件不佳的生活環境、沒有可期待的未來，也令他們的身心健康岌岌可危，亟需醫療的支援。有關難民的人性尊嚴敘述何者正確？

(A) 難民缺乏自我決定的能力與機會

(B) 難民生命的安全性遭到嚴重侵犯。

(A) 3. 學校教育一直反映當時社會的價值觀，這是早期國立編譯館版本的國民小學國語課本第一冊第三課「誰起得早」，後來隨著社會變遷，這篇課文也消失在教科書中。由此篇課文可看出，當時的主流文化是？

(A) 男尊女卑 (B) 家務共同分擔。



(B) 4. 調查家庭暴力的加害者時，發現這些人在小時候常是家庭暴力的受害者，因為承襲了家人解決問題的模式。因此對於即使未受到實際傷害，卻因目睹暴力行為的兒童及少年，也建立輔導機制。建立這個機制，是因為與下列何種俗語所代表的家庭功能相同？

(A) 久病床前無孝子

(B) 上樑不正下樑歪。

(B) 5. 在學校中，我們會透過班會來討論與決定班級的公共事務，下列有關班會進行方式的說明何者正確？

(A) 會議之前提出動議並由一人以上附議 (B) 表決採取先提名先表決及多數決原則。

(A) 6. 各位的父母以前在唸書時，學生只能遵守由學校制定的校規與班規，而現在各位師生可以相互溝通，共同擬定大家願意接受的生活公約。這樣的轉變，最可能是因下列何項概念逐漸受到重視？(A) 學生自治 (B) 公平正義。

(B) 7. Cheers 雜誌曾針對大企業人力資源主管調查發現，有約 35% 的企業認為，若初次求職者具有「豐富的學校社團經驗」，對於面試有加分的效果。這是因為校園生活可對職業生涯發展有何種幫助？(A) 能打破刻板印象並進而了解自我 (B) 能培養適應社會生活所需的能力。

題組題：請閱讀以下短文並回答-25 題（每題 4 分）

2002 年 3 月 8 日「國際婦女節」，《甲法》正式施行，主要在致力創造性別平等且友善的職場環境。《甲法》的促成，在於早期企業內有許多針對女性的「單身」及「禁孕」條款，以契約要求女性職員如結婚、懷孕就要離職；尤其在 1987 年的「國父紀念館事件」中，女服務員除「單身禁孕」，更被要求簽署「年滿 30 歲便離職」契約。

當時，有 57 名國父紀念館的女性員工決定捍衛自身權益，於是請律師寄存證信函給館方，館方回覆卻是：「我們是國家最高的文化機構，接待外賓時要介紹尊貴文物，接待人員必須儀禮端莊，但女人超過 30 歲就人老珠黃。」事實上，不只是國父紀念館，當時許多文化場館都有類似規定，如高雄市立文化中心也有類似事件傳出。

但即使到現代，女性在職場遇到男性主管口頭或肢體性騷擾、懷孕就調職減薪，甚至還有「育嬰留停和自請離職擇一」的案件，申訴案仍比男性勞工高出許多。

在 38 婦女節這天，主管機關也提醒雇主必須落實性別平權、尊重女性職場勞動權益，對於違法的雇主，最高可處 150 萬元罰款。

- (B) 8. 《甲法》最有能為下列何者？(A)性別平等教育法 (B)性別平等工作法。
- (A) 9. 文中方框處應屬於下列何種性別不平等現象？(A)性別歧視 (B)性別刻板印象。
- (A) 10. 主管機關此舉最有可能是為落實下列何種精神？
(A)保障人權並且維護人性尊嚴 (B)政府積極立法杜絕家庭暴力。

「午安，或是晚安！」汐止國中圖書館有套漫畫《間諜家家酒 (Spy X Family)》，內容敘述西國為了避免東西兩國再次爆發戰爭，派遣頂尖間諜「黃昏」，要調查東國政治人物的陰謀，因而要組成家庭，並讓小孩在學校拿到獎勵，以方便接近探查。

為了達成目標，黃昏以精神科醫師「洛伊德」的身分，在孤兒院找了一名小女孩「安妮亞」，並與一名女性「約兒」完成婚約，共組家庭，而約兒任職東國特務機關的弟弟「尤利」，時常到家中來找姊姊，卻認為是洛伊德搶走姐姐而不滿。後來安妮亞也養了一隻狗「彭德」當寵物。

雖然是為了任務目標而成立的虛假家庭，但為了避免被東國特務機關懷疑，他們在紀錄上是合法的家庭。請依我國法律，回答下列問題。



- (B) 11. 洛伊德是如何成為安妮亞的父親？
(A)透過戶政機關完成領養程序 (B)透過法院完成收養程序。
- (A) 12. 這個家庭是屬於何種型態？
(A)核心家庭 (B)聯合家庭。
- (A) 13. 與黃昏同為間諜的同事「夜帷」，認為自己才是最適合扮演妻子的角色，只要自己能扮演黃昏的妻子，就用高壓的軍事化教育，這樣安妮亞就能輕而易舉拿到學校獎勵，更容易達成任務。但這樣卻根本忽略了小孩的成長心理，就是在虐待小孩。這我國，夜帷可能會受到怎樣的處罰？
(A)依據民法剝奪親權 (B)依據家庭暴力防治法剝奪親權。



2013 年 7 月，當時 54 歲的布農族男子 Talum Suqluman (漢名王光祿) 由於年邁的母親想吃肉，便在臺東山區狩獵；他在獵到一頭臺灣長鬃山羊與一頭山羌後，被警方以持有非自製獵槍及獵殺保育類動物逮捕，並以違反《槍砲彈藥刀械管制條例》和《野生動物保育法》予以起訴，後被判刑 3 年 6 個月。王光祿並沒有否認自己的行為，但認為自己的行為不是非法的，因為狩獵是原住民文化的重要部份。在事發之後，由於他是因孝行被起訴，因此被稱為「孝子獵人」。

- (A) 14. 「這是我們的傳統、也是我們的生活，想吃，體力許可，就往山裡找。食物就在那裡，用祖先教下來的技術去拿。」Talum 與族人以剛烤好的豬肉、白飯、米酒、檳榔，輪流向山神、祖先靜心祈福。這是顯示部落何種重要性？(A)信仰中心 (B)文化傳承。
- (B) 15. 布農族人及關注該案之社會團體批評判決結果過於嚴厲。許多原住民族團體針對判決憤而示威抗議，認為該判決結果是導因於不了解原住民族在傳統領域的狩獵文化與習俗，引起社會大眾關注。根據上文判斷，原住民族面臨部落危機時採取了下列何種因應策略？
(A)要求政府設置專責機構處理相關事務 (B)發動部落抗爭爭取原住民族群的權益。

三、地理科，共 15 題：

- (A) 1. 在汐止好市多對面，有棟辦公大樓名稱是經緯大樓，經緯線是人類為了在地球上確定位置，而研發出的座標系統。請問經緯線的比較，何者正確？

	(A)	(B)
	長度	度數
經線	條條等長	東西經各 90 度
緯線	0 度線最長	南北緯各 180 度

(A) 2. 隨著休閒風氣逐漸提升，也掀起一股登山風潮，為了避免在山中收不到訊號，因此會先建議下載登山 APP，可藉此獲得各種座標定位的資訊，在山裡迷路時有所依據。請問：下列所呈現的地理位置，何者最貼近登山 APP 所表達的概念？

(A) 汐止國中地址為新北市汐止區大同路二段 394 號

(B) 新台五路往北走可到基隆市區。

(B) 3. 經典遊戲「真・臺灣無雙」中，每日都需解任務，以獲得當日獎勵，因此都在臺灣 (120°E) 時間 09:00 時更新。因日幣大幅貶值，到日本旅遊很便宜，因此前往東京 (135°E)，他發現必須在日本時間幾點前解完任務，才能在更新前拿到獎勵？

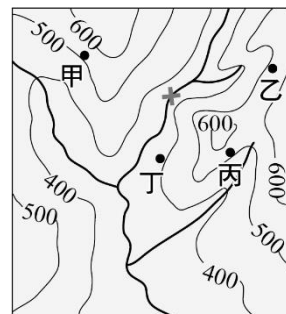
(A) 09:00

(B) 10:00。

(B) 4. 古代還沒有自來水時，河水是軍隊重要的水源，因此若要削弱對方戰力，就會想辦法切斷水源，對方也知道，因此也會重兵把守，確保水源穩定。某日作戰會議上，鍵盤諸葛村夫見到敵軍紮營區域的等高線地形圖，其中「x」是敵軍駐紮地，立即命一將領，前往圖中此處，製造土石崩落，則敵軍水質混濁，無法飲用，不出一週必定撤軍！鍵盤諸葛村夫是命將領到圖中何處執行任務？

(A) 甲

(B) 乙。



(A) 5. 早在 17 世紀末，郁永河奉命來臺開採硫磺，將途中見聞寫成《裨海紀遊》，成為後人了解清初臺灣風土民情、原住民生活的重要參考資料。而在 100 多年後，外國人來臺時發現，「這裡泉水溫度很高，可能被蒸氣燙傷，空氣中瀰漫著濃烈的硫磺味，惡劣的環境不利植物生長。」下列哪一離島，具有類似上述記錄的地質環境？

(A) 龜山島

(B) 金門列嶼。

(A) 6. 附圖是在花蓮瑞穗北回歸線紀念碑，紀念碑後方的高山為中央山脈，則這張照片拍攝方向為何？

(A) 東向西

(B) 南向北。



(B) 7. 附表是臺灣北、中、南、東四大區域平均逕流量時段比例的相關數據，其中何者最可能為北部區域？

區域 \ 月分	11-04 月	05-10 月
(A)	10.38%	89.62%
(B)	37.19%	62.81%

(B) 8. 寒流來襲，臺灣某些地方開始降雪，在看雪的地方，零食包裝都特別大包！想說食品公司真是佛心來著，還有限定版，結果一打開卻大失所望，原來是買空氣送零食啊！當地零食包裝會比學校附近更大包的原因，最可能是何原因？

(A) 緯度較高

(B) 氣壓較低。



題組題：請閱讀以下短文並回答 09-15 題

大航海時期，當時荷蘭、西班牙、葡萄牙等歐洲國家紛紛前往東亞找尋貿易據點，同時運回當地特產，進而貿易致富。

(A) 9. 當時這些國家要到東亞，最短的路線，一定會繞過哪一洲？

(A) 非洲

(B) 美洲。

(B) 10. 荷蘭、西班牙等當時的強國，都曾經在臺灣發展，甚至希望能控制臺灣，這是臺灣具有何種特性？

(A) 多元生態交會的位置

(B) 交通樞紐。



英法聯軍之役，清帝國戰敗，臺灣開放基隆、淡水、安平、打狗（今高雄）4 港口作為通商口岸，外國勢力再度進入臺灣。但隨著時光推移，這 4 港口的發展卻大相逕庭！

- (A) 11. 基隆港開港迄今，已超過 120 年，1980 年代曾一度成為世界第 7 大貨櫃港！但迄今整體發展卻不如其他城市，人口也只有約 36 萬人左右。依據當地海岸特性判斷，是何種因素限制？(A) 平原狹小 (B) 侵蝕強烈。
- (B) 12. 安平港在清代原為臺灣南部的最大港，但當年的港口早已無法使用而廢棄，後於附近再另挖新港，仍稱為安平港，地位也被南方的高雄港取代。請問安平港沒落的原因可能為何？(A) 海岸線後退 (B) 泥沙淤積。

去年 12 月上旬，9 年級的學長姐畢業旅行，看他們在社群網站貼出的照片，他們的畢業旅行，充滿陽光，而同時在汐止的我們，卻必須頂著寒風撐著傘來上課……



- (A) 13. 為了讓大家玩得盡興，畢業旅行通常會選擇到何處？(A) 中南部 (B) 東北部
- (A) 14. 針對該區域的水資源狀況，何種作法有助於水資源的保育或開發？(A) 地下水抽取量小於補注量 (B) 工業廢水直接排入河川。
- (B) 15. 這時汐止主要的降雨型態，主要是何種類型？

