

新北市汐止國民中學 112 學年度第一學期八年級社會科補考題庫

一、歷史科，共 15 題：

- (B) 1. 阿芬老師在歷史課堂上幫學生整理了一個表格，根據附表的内容，嘉嘉老師上課的主題應為下列何者？
- | 朝代 | 方式 |
|------|------|
| 漢朝 | 儒家經學 |
| 魏晉時期 | 九品官人 |
| 隋唐時期 | 科舉制度 |
- (A)賦稅制度 (B)任官制度
- (A) 2. 隋唐文化影響亞洲各國，其中新羅對大唐文化的學習尤其徹底，曾全力模仿中國的文字、曆法、儒學等。若我們想尋訪新羅與大唐文化的傳承關係，應到現今何處？(A)朝鮮半島 (B)琉球群島
- (A) 3. 秦漢帝國時期，北方有一部落聯盟長期騷擾帝國邊境，是帝國主要的外患。根據上述，該部落聯盟應為下列何者？(A)匈奴 (B)犬戎
- (A) 4. 華北在胡族政權的長期統治下，部分胡族決定學習漢人的文化，例如：北魏孝文帝的漢化措施。下列何者並非北魏孝文帝漢化措施的内容？(A)穿胡服 (B)說漢語
- (B) 5. 「從某個時期開始，朝廷開始將所有平民納入治理，並頒布法律管理，類似我們現在的戶籍制度。」上文所述的時期指的是下列何者？(A)平王東遷前 (B)商鞅變法時
- (A) 6. 張擇端所繪的〈清明上河圖〉中，描繪出北宋時期商業繁盛、城市生活多樣化，此時甚至出現不受營業時間、地點限制的夜市盛況。然而，會有如此城市繁榮景象的原因，與下列哪項作為最有因果關係？(A)坊市制度的廢除 (B)設立驛站制度
- (A) 7. 元朝廣設某機構，主要是提供信使、官員歇息或換馬的處所，不但便於政府的統治，也加速經貿的往來。請問：這是哪一類機構？(A)驛站 (B)馳道
- (B) 8. 詹姆士生活在元朝，他被延攬進入政府部門從政，在朝中擔任跟財政相關的職務，主要負責各地的稅務徵收及政府的財政規畫。從上述内容來看，詹姆士可能是屬於哪個族群？(A)蒙古人 (B)色目人
- (B) 9. 自從拓展往亞洲的新航路之後，歐洲商人與傳教士都相繼來到亞洲，傳教士擔任傳教的任務，在傳教士利瑪竇與湯若望等人的努力之下，天主教在中國逐漸蓬勃了起來。但不久後，因為羅馬教宗不允許中國信徒祭拜祖先和孔子等行為，引發「禮儀之爭」，後來又因傳教士捲入中國宮廷的政爭，使得某位皇帝展開嚴厲的禁教措施。上述皇帝應是何人？(A)康熙 (B)雍正
- (B) 10. 阿龍是個東南亞華僑之子，他無意中翻到祖先留下來的祖訓，内容提到：「當年我們經過這裡，覺得這是一塊值得開發的地區，於是我們選擇不回中國而留在此地發展，克勤克儉，終於漸有成就，後世子孫務必必要守成！」這段内容最有可能與下列何事有關？(A)遷都北京 (B)鄭和下西洋
- (A) 11. 上海市有「十里洋場」的別稱，據《上海辭典》解釋：「上海開埠後，外國人在外灘建造洋樓、洋行，並劃定租界，當時最早的英、美兩租界長度約十華里，故有『十里洋場』之稱。」按照辭典解釋，上海別稱的誕生，可能跟哪一場戰爭的影響最為相關？(A)鴉片戰爭 (B)英法聯軍
- (B) 12. 下列為中國歷史上依干支紀年命名的史事；將這些史事按發生的先後順序排列，下列何者正確？(甲)戊戌變法 (乙)甲午戰爭 (丙)《辛丑和約》 (丁)庚子拳亂(義和團之亂)
(A)甲乙丙丁 (B)乙甲丁丙
- (B) 13. 珍妮是在清末到中國觀光的英國女士，她開心的說道：「以往我來到中國都只能在沿海通商口岸廣州一帶遊覽，中國壯麗美好的風光卻無法一飽眼福，如今我終於達成心願，可以盡情欣賞長江沿岸以南各港區的風光。」請問：珍妮應該是何時來到中國？(A)鴉片戰爭以前 (B)鴉片戰爭以後
- (A) 14. 凱凱在看電視劇時，看到如附圖的劇情，從劇中官員對話的内容判斷，他們在討論的主題最可能為下列何者？(A)鴉片戰爭的失敗 (B)自強運動的展開
- (B) 15. 阿強是十九世紀末期的知識分子，他因為成績優秀，進入當時新成立的「京師大學堂」(今天北京大學)就讀，阿強當時能夠就讀該校，是何種改革運動推行的關係？(A)立憲運動 (B)戊戌變法

外國人在中國犯法，竟然由他們自己人來處置。這真是中國的悲哀啊！



二、公民科，共 15 題：

- (B) 1. 沙烏地阿拉伯邊境防衛隊自去年以來，殺害了數百名試圖穿越葉門—沙烏地阿拉伯邊境的衣索比亞移民與尋求庇護者，並且非法殺戮和過度使用武力。沙國對移民者酷刑、虐待的行為，可能已經構成危害人類罪。沙國為了改善其形象，花費數十億美元進行「體育洗白」，然而，如果針對衣索比亞移民和尋求庇護者的嚴重犯罪得不到正義伸張，只會助長進一步的殺戮和虐待。上述在主要說明何項議題的重要性？(A) 經濟 (B) 人權
- (A) 2. 承上題，兩位同學正討論此國家的新聞事件。
小瑋：「2018 年有一位沙烏地異議記者賈邁·哈紹吉，在沙烏地駐土耳其的伊斯坦堡總領事館『人間蒸發』。17 天後，原先一概否認的沙烏地政府，終於坦承『哈紹吉確實是被殺死在外館』，兇手是幾名失控的沙國特工，哈紹吉的遺體則遭到分屍棄置，而沙烏地王儲穆罕默德·本·薩勒曼正是謀殺哈紹吉的幕後黑手，離譜且無比駭人的情節，嚇傻了整個世界。」
小軒：「沙烏地同年 6 月准予女性開車，考取駕照不用經過家中男性監護人同意，此舉被視為穆罕默德的改革開放政績之一，但沙烏地政府同時又以『密謀顛覆王國』罪名，大肆逮捕爭取女性開車權、終結男性監護人制度的女權運動者。」關於該國政體的敘述，下列何者正確？
(A) 沙烏地政府不須向人民或國會負責 (B) 沙烏地政府施政須以民意為依歸
- (B) 3. 5 月底爆發的 #MeToo 浪潮，在社會強大壓力下，行政院提出「性平三法」修法草案，分別為《性別平等教育法》、《性別平等工作法》與《性騷擾防治法》。此次修法以「完善申訴流程」和「重罰」為主軸，將利用雙方不平等地位的「權勢性騷擾」者，視為特別嚴重的犯行，在民事、刑事、罰鍰上都加倍重罰，並給被害人較長的申訴期，以及可以繞過內部處理、直接向主管機關申訴的機會。上述內文所提及的三項法令，下列敘述何者正確？
(A) 該法令屬於「命令」位階 (B) 該法令是由立法院三讀通過
- (A) 4. 下列是釋字第 807 號【限制女性勞工夜間工作案】，根據內文，判斷其在說明《憲法》何特性？
勞動基準法第 49 條第 1 項規定：「雇主不得使女工於午後 10 時至翌晨 6 時之時間內工作。但雇主經工會同意，如事業單位無工會者，經勞資會議同意後，且符合下列各款規定者，不在此限：一、提供必要之安全衛生設施。二、無大眾運輸工具可資運用時，提供交通工具或安排女工宿舍。」違反憲法第 7 條保障性別平等之意旨，應自本解釋公布之日起失其效力。
(A) 最高性 (B) 固定性
- (B) 5. 承上題，若民眾對於我國法令有不同見解時，可交由下列何人加以解釋？
(A) 行政主管機關 (B) 司法院大法官
- (B) 6. 樂天桃猿啦啦隊女神李多慧，在個人 YouTube 頻道，推出台灣美食介紹第三部影片，她陸續造訪台北寧夏夜市、士林夜市及臨江街夜市，不少粉絲讚嘆影片很有質感，也大讚多慧用中文點餐的模樣實在是太可愛了。上述介紹台灣美食的方法，主要是《憲法》哪一項基本人民權利？(A) 平等權 (B) 自由權
- (B) 7. 台灣中央選舉委員會日前正式發佈第 16 任總統、副總統選舉公告，並預估此次大選合資格的投票人數高達 1950 萬人。此次每一位選民將投 3 張選票，包含 1 張總統及副總統選票、1 張區域（或原住民）立法委員選票及 1 張政黨票。將角逐 2024 年台灣總統大選的有代表民進黨的副總統賴清德、代表民眾黨的前台北市長柯文哲，及現任國民黨籍新北市長侯友宜，及離開國民黨宣佈獨立參選的台灣富豪郭台銘，誰勝誰負將在 2024 年 1 月 13 日決定。上述提及下列何項權利？(A) 受益權 (B) 參政權
- (A) 8. 「因應疫情而禁止高中以下師生出國，是否違憲？」以日前全球疫情的狀況，政府可以為了維護全國人民生命安全的理由，限制甚至禁止人民出國。亦即，以保護生命權的目的，採取限制人民權利的手段，是有效且合乎比例的。然而，政府可不可以只限制部分人出國？這裡涉及差別待遇問題。憲法會要求政府要提出更為正當的理由去合理化差別待遇，不然此措施就很有可能違憲。若外界質疑禁止出國的禁令有違憲疑慮，應向下列哪一機關尋求協助？
(A) 司法院 (B) 立法院
- (A) 9. 承上題，政府所限制的人民權利，可能涉及到的是下列哪一項？
(A) 居住遷徙自由 (B) 秘密通訊自由

- (A) 10. 在我國，審查預算與審查決算的中央政府部門，分別為下列何者？
(A)立法院、監察院 (B) 監察院、立法院
- (A) 11. 最貼近我們日常生活的地方政府，提供許多公共事務的為民服務，下列何者不屬於其權限？
(A) 地方法院 (B) 消防救災
- (B) 12. 「政治參與」是指人民以各種途徑，試圖影響政府或公共政策的過程，何者是民主國家中，最常見的政治參與方式？
(A)晨晨參加館長的「公平正義救台灣」遊行 (B)穎穎在總統大選中投下人生第一張選票
- (A) 13. 下列是暄暄整理的行政首長政策：

南投縣縣長：「推展露營活動、輔導業者合法化，健全發展露營產業。」

彰化縣縣長：「設置 28 家育嬰中心跟 24 間育兒館，要讓年輕夫妻敢婚敢生，無後顧之憂。」

苗栗縣縣長：「成立跨局處『職業安全衛生推動小組』，讓苗栗縣內職工都能有安全的環境」

上述三位首長的發言內容，最足以彰顯下列何項概念？(A) 地方自治 (B) 三權分立

- (B) 14. 承上題，三位縣長所在的行政區，與下列哪一個「市」的層級不相同？
(A)新竹市 (B)花蓮市
- (B) 15. 明年 1 月 13 日將進行我國四年一次的總統和立委選舉，新竹縣選委會為了提升選務人員對突發狀況的應變能力，舉辦「第 16 任總統、副總統第 11 屆立法委員選舉投票程序模擬演練」，並讓所有參與者了解，選舉人是可以帶 6 歲以下兒童進入投票所投票的，但是禁止攜帶手機或有攝影功能的器材進入，除非選舉人把手機關掉電源。上述雙底線處，涉及到何項選舉原則？(A) 普通原則 (B) 無記名原則

三、地理科，共 15 題：

- (A) 1. 圖為中國某一氣候資料統計圖，每條線上的數值都相同，其中甲線的數值最低、丁線的數值最高，則該氣候資料應為下列何者？

年雨量變率＝年降水量變率

(A)年降水量 (B)年溫差。

- (B) 2. 在古詩詞中，有許多描述自然景觀、或是藉由自然現象抒發心情的詩句，如蘇軾的《記承天寺夜遊》中，「何夜無月？何處無竹柏？但少閒人如吾兩人者耳。」在眾多古詩詞中，何者較看不出中華人民共和國地形的特性？

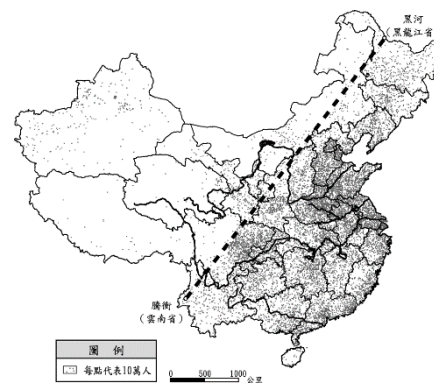
(A)滾滾長江東逝水，浪花淘盡英雄（楊慎 臨江仙）

(B)即從巴峽穿巫峽，便下襄陽向洛陽

（李白 黃鶴樓送孟浩然之廣陵）。

- (B) 3. 中華人民共和國的人口以黑龍江省黑河和雲南省騰衝為界，可大致分為西半部及東半部，造成兩邊人口總數差異懸殊的原因，何者正確？

	(A)地形	(B)氣候
西半部	平原、丘陵為主	乾燥少雨
東半部	高原、盆地為主	潮溼多雨



- (A) 4. 改革開放後的 30 多年內，中華人民共和國社會流傳的順口溜：「雖然大權不在手，可誰都得跟他走。他讓往東去，你不敢往西扭。他說要騎馬，爸爸忙趴下。半夜想吃冰淇淋，爺爺提起褲子滿街走。」雖然夾帶著幾分戲謔，卻也指出這段期間內中華人民共和國的何種的人口問題。請問：上述順口溜描述了中國哪一人口問題？
(A)出生率大幅降低 (B)人口分布不均。
- (A) 5. 在明清時期的華人主要是順應哪一個季節的季風，移民到東南亞？
(A)冬 (B)夏。

- (A) 6. 這是中國化學肥料金坷拉，其廣告詞稱「肥料摻了金坷拉，一袋能頂兩袋撒；肥料摻了金坷拉，小麥畝產一千八；肥料摻了金坷拉，能吸收兩米下氮磷鉀」；「金坷拉零流失、零浪費、不蒸發，有了金坷拉，才能種莊稼（農作物）」，中國積極使用新農業技術開發的肥料，主要是因為何種原因？



(A) 農村勞動力下降 (B) 密集飼養牲畜。

- (A) 7. 2005 年起，在中國廣東省深圳市龍華區景樂新村附近，有許多人力資源公司，形成招聘工人的「職（業）介（紹）一條街」，成為深圳甚至全國勞動力市場的集散地，連內陸的人也到此找工作，但因種種原因，部分求職者長期滯留於此，形成了獨特的「次文化群體」，以當地最大的人力市場三和為名，這些人被稱為「三和大神」，是一群居無定所、做著日薪臨時工、只能以極低成本生活的最基層打工者的統稱，一直到 2020 年，三和人力市場搬遷為止。日本 NHK 電視臺特地為此拍攝紀錄片介紹。這個情況可能與哪種中國社會現象的關係最密切？(A) 區域發展不均 (B) 勞工成本上漲。

- (B) 8. 美國大選看中國小鎮？浙江義烏是全球最大批發市場，在 2020 年美國總統選舉時，當時美國川普的帽子、旗幟、T 恤等競選小物熱賣，遠超乎其他候選人，讓政治觀察家以這個現象來做為參考依據。而中國政府也認為這個市場足以反映輕工業的狀況，因此創造「義烏指數」來評估。這個現象與中國的何項特色最為相關？



(A) 邊境貿易活絡 (B) 勞工多且工資低廉。

- (B) 9. 2020 東京奧運雖然因疫情延後 1 年，但也被稱為最「中二」的奧運。2016 年里約奧運閉幕式的日本影片，日本前首相安倍晉三化身瑪利歐，哆啦 A 夢拿出水管道具幫忙從東京直穿里約！比賽時的音樂，也是各種主題曲，如烏茲別克韻律體操隊以《月光傳說》（美少女戰士）作為出賽音樂；各國選手也在賽場上擺出各種招牌姿勢，如俄羅斯游泳選手比出《進擊的巨人》「獻出你的心臟吧」手勢等。這些都顯示日本在哪个產業的影響力？

(A) 觀光 (B) 動漫、漫畫、遊戲（ACG）。

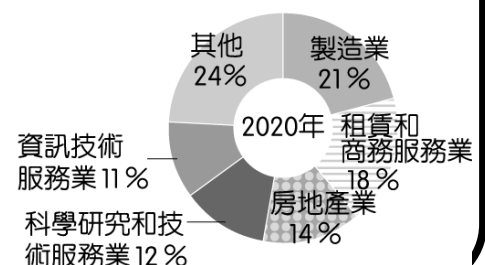
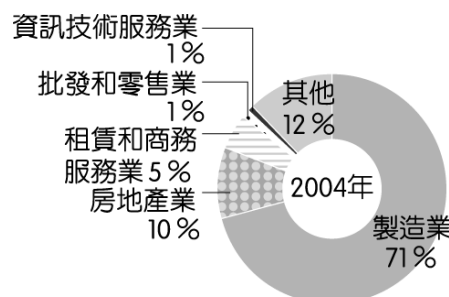
- (A) 10. 日本畫家小黑因心目中的聖山在景觀上被新蓋的大樓從中擋住變成兩半而心生不滿，「這實在太可惡了，絕對不能原諒！」因此展開一連串的殺人計畫！從建設公司的老闆、大樓設計師、到修改建築法規的議員等相關人等都在獵殺名單中！這座被影響的聖山應該是？



(A) 富士山 (B) 太白山。

二、題組題：請閱讀以下短文並回答 11-15 題

附圖是 2004、2020 年外國對中國投資行業比例圖，回答下列問題。



- (A) 11. 2004 年到 2020 年，外國投資者投資對象有何轉變？

(A) 由製造業轉變為租賃和商務服務業 (B) 由房地產業轉變為資訊技術服務業。

- (B) 12. 什麼原因讓中國擁有龐大的消費潛力？

(A) 資源豐富 (B) 所得增加。

位居東北亞的朝鮮半島，北連中國，南以對馬海峽與日本相望，其地理位置使朝鮮半島常受到中國與日本的影響。近年來，隨著經濟的發展與政府的有意扶植，南韓的影視產業形成一股「韓流」，引起廣大迴響。其中，人物的飲食與穿著，已蔚為風潮，顯見南韓在影視與文化方面，已逐漸走出自己的路。

- (A)13. 在韓劇或南韓電影中，常可看到演員們吃著泡菜大快朵頤，劇情中也可見到製作泡菜的片段，反映出泡菜對南韓人的重要性。請問：這種飲食文化背後受什麼因素影響？
(A)氣候 (B)地形。
- (B)14. 韓國影集《魷魚遊戲》名稱是取自韓國一種兒童遊戲，講述 456 名背景各異但一樣債臺高築的玩家，為了贏得 456 億韓元的獎金參加一系列致命的兒童遊戲。在網飛上播出後，短時間就躍升為 Netflix 最受歡迎的原創劇集，播放量在 94 個國家的排行榜上位居首位。是編劇兼導演的黃東赫根據自己早年的經濟困難經驗以及韓國貧富差距現況，構思了該劇的事件。韓國何種發展，最可能影響編劇？(A)敵國武力威脅 (B)財閥壟斷經濟。
- (B)15. 承上，劇中的玩家有著各種不同的來歷，其中包括「脫北者（逃離北韓的人）」，他們最不可能因為何種理由逃離北韓？(A)糧食供應短缺 (B)礦產資源缺乏。