

新北市汐止國民中學 112 學年度第一學期七年級社會科補考題庫

一、歷史科，共 15 題：

- (B) 1. 陳小華到某一地方文化中心欣賞一部舞臺戲。他在入口處拿到附圖的節目單，這部舞臺戲應該是在詮釋臺灣歷史上哪個國家或政權？
(A) 日本 (B) 荷蘭
- (A) 2. 清帝國時期，政府依照「是否納稅、服勞役」區分原住民族，其中有納稅的原住民族被稱作何者？ (A) 熟番 (B) 高砂族
- (B) 3. 荷蘭人除占領今日印尼一帶外，還曾兩次進犯何地，遭明朝政府驅逐？
(A) 大員 (B) 澎湖
- (A) 4. 清康熙下令：「不准任何船隻下海，嚴禁任何糧食闖關，凡是違反禁令者一律連坐處死，務必使海上那批人，在糧盡援絕以後做鳥獸散。」文中的「海上那批人」所指為何？
(A) 臺灣鄭氏 (B) 日本人
- (B) 5. 荷蘭人治理臺灣時，考量到商業貿易的利益，鼓勵漢人在臺灣種植哪種作物，以謀取利潤？
(A) 茶葉 (B) 甘蔗
- (A) 6. 張擇端所繪的〈清明上河圖〉中，描繪出北宋時期商業繁盛、城市生活多樣化，此時甚至出現不受營業時間、地點限制的夜市盛況。然而，會有如此城市繁榮景象的原因，與下列哪項作為最有因果關係？ (A) 坊市制度的廢除 (B) 設立驛站制度
- (A) 7. 元朝廣設某機構，主要是提供信使、官員歇息或換馬的處所，不但便於政府的統治，也加速經貿的往來。請問：這是哪一類機構？ (A) 驛站 (B) 馳道
- (B) 8. 自從拓展往亞洲的新航路之後，歐洲商人與傳教士都相繼來到亞洲，傳教士擔任傳教的任務，在傳教士利瑪竇與湯若望等人的努力之下，天主教在中國逐漸蓬勃了起來。但不久後，因為羅馬教宗不允許中國信徒祭拜祖先和孔子等行為，引發「禮儀之爭」，後來又因傳教士捲入中國宮廷的政爭，使得某位皇帝展開嚴厲的禁教措施。上述皇帝應是何人？
(A) 康熙 (B) 雍正
- (B) 9. 阿龍是個東南亞華僑之子，他無意中翻到祖先留下來的祖訓，內容提到：「當年我們經過這裡，覺得這是一塊值得開發的地區，於是我們選擇不回中國而留在此地發展，克勤克儉，終於漸有成就，後世子孫務必必要守成！」這段內容最有可能與下列何事有關？
(A) 遷都北京 (B) 鄭和下西洋
- (B) 10. 「市舶司」是宋元時代出現的政府機構，設立在沿岸城市，職司管理進出口貨物與商船，以及徵收稅金。請問：市舶司的設立，和當時何種社會現象關係密切？
(A) 海盜肆虐 (B) 貿易興盛
- (B) 11. 臺北市芝山岩的同歸所古蹟，上有對聯寫著：「同歸原有命，一所豈無緣。」這個典故是清帝國時期，泉州人與漳州人發生衝突，漳州人不敵退守至芝山岩，後人將這些死難者葬在一起。請問：這種衝突說明當時臺灣社會的哪種現象？
(A) 漢人本性勇武好鬥，引起社會動盪 (B) 移墾社會的競爭激烈，因為利益造成分類械鬥嚴重
- (B) 12. 彰化縣鹿港鎮有間泉郊會館。請問：這座會館成立的目的為何？
(A) 作為地方教育之用 (B) 商人間聯誼及互助之用
- (B) 13. 這個清朝統治時期的水利設施是原漢合作的示例，張達京以「割地換水」的方式和平埔族合作，岸裡社原住民與土官潘敦氏以土地換取灌溉的水源，而張達京則聯絡各業戶共同出資興建水利建設；該水利工程位在圖中的何處？ (A) 甲 (B) 乙
- (B) 14. 熱門宮廷劇「延禧攻略」裡有一位侍衛海蘭察，在歷史上此人於清乾隆時期來過臺灣。請問：當時的海蘭察在臺灣可能會看到下列哪一景象？
(A) 荷蘭人以各社長老管理原住民 (B) 來臺移民因為爭奪利益而械鬥

節目單

第一幕：起航〈從澎湖到臺灣〉

第二幕：通婚〈船長與當地女子結婚〉

第三幕：平亂〈平定漢人反抗事件〉

第四幕：撤退〈被敵人包圍，和談撤離〉



- (A) 15. 林家花園是板橋林家所蓋的園邸，林家是臺灣早期首屈一指的大家族之一，其園邸美輪美奐，令人嘆為觀止，在花園內部有一座林姓宗祠。請問：這座宗祠所祭祀的應屬於下列何者？
(A)開臺祖 (B)唐山祖

二、公民科，共 15 題：

- (B) 1. 有國中學生在校園內大開黃腔，多次用言語性騷擾同學，讓同學不堪其擾，又相當難堪。若受害者要尋求幫助，下列哪一項法律最能提供他協助？〔108. 會考〕
(A)《性騷擾防治法》 (B)《性別平等教育法》。
- (B) 2. 我國強調性別平權，也修正相關的法律內容，以提供更多保障。修正相關事項，何者有誤？

項目	民法親屬編修正	
	前	後
(A)生活費	由夫負責	各依其經濟能力共同分擔
(B)子女姓氏	由父母雙方協議之	子女從父姓

- (B) 3. 2024 年 1 月要投出總統與立法委員，其中一位立委參選人，原本是志在教育而選擇到偏鄉教書，爸爸多次當選的民意代表，卻因年事已高，想要交棒，因此而回到家鄉參選，以年輕、改革為號召，提出「小孩老人一起顧、生育長照兩不誤！」的口號。請問這最不可能是因應何項社會問題？(A)老年人口增加 (B)死亡率上升。
- (A) 4. 中華職棒球員主要還是以原住民族為多，職棒 34 年（2023 年）中華職棒全壘打王是味全龍隊的吉力吉撈·鞏冠（Giljegiljaw Kungkuan，排灣族，漢名朱立人）的 23 支。他早在美國小聯盟奮戰時，就是首位用「原」名登錄的選手，也是中職首位。「吉力吉撈」意思為有力量的勇士，而「鞏冠」為家屋名，僅限同家族者。原住民能使用「原」名，是因為何事件爭取的？(A)原住民族運動 (B)部落自治。
- (A) 5. 牡丹社事件後，清廷推行開山撫番，等同侵入原住民傳統生活領域，導致反抗，鎮壓後許多原住民被迫遷移他鄉，這對原住民造成何種影響？
(A)原住民文化面臨危機 (B)摧毀共享互助的價值觀。
- (B) 6. 網路影片《意見超多？開班會的各種同學！》中，詮釋各種開班會的狀況，如每次選幹部都會有同學瞎起鬨，要班上某人當幹部，或故意挖坑陷害對方，向其他同學說明對方有當幹部的能力，因此同學通常都會互相提名對方；或是每次表決主席在臺上講，臺下沒人在聽，所以在進行表決時，都一定會有人搞不清楚狀況亂舉手，或事後放馬後炮反對表決結果；也有些人報告事情的時候，就只會簡單的帶過；還有意見特多的人，別人講什麼都一概反駁；開會時有的同學意見超多，不斷舉手發言，但也有同學根本心不在焉，開會中玩鬧甚至打瞌睡。當然最辛苦的是維持班會秩序的主席，要收發會議資料，還要勤跑學校各處室。請問文中出現班會提名選幹部的場面，下列何者為選舉幹部所須遵循的注意事項？
(A)主席可否決不佳提名 (B)表決依照多數決原則。
- (B) 7. 印度的童工現象，剝奪許多兒童的未來，雖然印度政府法令明定禁止童工，但許多工廠仍僱用童工，這些孩子多半沒有上過學，不認識自己，也不認識這個世界，每天工作超過 12 小時，他們在糟糕的環境裡工作，很久沒看到陽光，也不能洗澡，身上有皮膚病，黑心老闆還不依正常工資計算，甚至拖欠薪資！因此有人成立兒童救援組織，讓孩子換洗乾淨衣服、接受教育、學習領導能力，同時改變父母的傳統觀念，希望能翻轉兒童的未來。這些救援組織的努力，並未提到兒童權利公約中的哪項人權？〔習作改〕
(A)不受到任何形式的虐待 (B)表達意見的權利。
- (A) 8. 鄭氏時期，因來臺漢人增加、拓墾土地，壓縮原住民生活空間；清帝國時期，雖有番界，但漢人仍不斷越界開墾，以各種合法、非法方式取得原住民土地，番界也越來越往山區移動。這些歷史背景，對原住民產生哪方面影響？
(A)傳統領域流失 (B)文化法律衝突。

二、題組題：請閱讀以下短文並回答 9-15 題

投票是表達意見與參與公共事務中最基本的責任，雖然我們離能投票年紀還有一段時間，這幾年的投票可能無法參與，但要準備好足夠的能力和態度，才能真正做到應盡的義務和享受權利。〔習作〕

- (A) 9. 到達一定年紀可投票參與國家政策，因為在這之後的身分將轉變為？
(A) 狹義公民 (B) 廣義公民。
- (B) 10. 當轉變為上述身分時，即具有參政權。下列何者不屬於參政權範圍？
(A) 投公民投票 (B) 去銀行開戶。
- (A) 11. 投票之前，能了解候選人政見的內容的管道，何者為非？
(A) 順從家人意見 (B) 翻閱選舉公報。

這是以前國小一年級上學期第三課課文，為知名作家林海音所筆，她說是依據自己的生活寫實，家裡的情況就是這樣，當時也沒想過會引起平權爭議。這篇課文因引起爭議而被移除，代表著隨時代進步，很多觀念也與時俱進。



- (A) 12. 這主要是修正什麼觀念？
(A) 性別刻板印象 (B) 性別偏見。
- (A) 13. 由此篇課文可看出，當時的家庭成員的互動關係是？
(A) 男尊女卑 (B) 性別平等。

家庭暴力防治法的緣起是個比悲傷更悲傷的故事。小翠被喪彪性侵懷孕後被迫嫁給喪彪，但喪彪仍時常毆打她，小翠因不堪毆打而離家，結果喪彪竟到小翠娘家大肆施暴及恐嚇全家，甚至揚言性侵其妹後將其賣到妓女戶！讓小翠心生恐懼而必須返家，連幼子也無法倖免遭暴力對待。

然而長達7年的暴力陰影，最後小翠在忍無可忍、又無法逃開的情況下，逼不得已只能殺害喪彪以求解脫，案件引發社會關注，催生出家暴法，讓中華民國成為亞洲首個具有保護令制度的國家。

但小翠確實動手殺人，因此被判入監服刑，失去監護權，法院將小孩判給喪彪之兄大壯一家照顧。而其遭遇也曾多次改編為電視劇。

- (B)14. 上文內容中並未出現施暴者的何種親屬關係？
(A)直系血親 (B)法定血親。
- (B)15. 根據我國哪一部法律的規定，法院可以限制施暴的父親繼續行使親權？
(A)家庭暴力防治法 (B)民法。

三、地理科，共 15 題：

- (B) 1. 某日, 119 接獲一通要求派救護車的通話內容:
來電:「我摔倒受傷了! 快來載我去醫院!」119:「在哪裡?」
來電:「在我家啊!」119:「我是問你在哪裡受傷的?」
來電:「我家浴室啦!」119:「但我們要怎麼到你家呢?」
來電:「你們不是有救護車嗎? 趕快來救我啊!」(掛電話)
請問依據報案電話, 消防隊能否順利救到傷患?
(A) 可, 119 有急救器材可救治傷患 (B) 否, 119 不知道絕對位置。

- (B) 2. 手機裡的電子地圖是出門旅遊、尋找店家、甚至迷路時的好幫手，我們可以利用電子地圖規畫旅遊路線、查詢店家資訊、知道現在該往哪邊走才能到目的地等，但如此便利的現代科技，仍然不是萬能的，下列何者非電子地圖的優點？

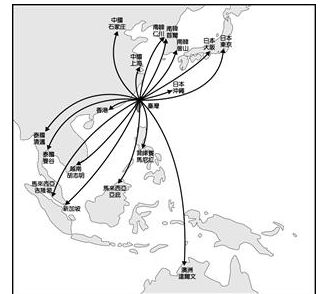
(A) 搭配街景實際照片 (B) 資訊更新速度慢。

- (A) 3. 大航海時期，當時荷蘭、西班牙、葡萄牙等歐洲國家紛紛前往東亞找尋貿易據點，同時運回當地特產，進而貿易致富。當時這些國家要到東亞，最短的路線，一定會繞過哪一洲？ (A) 非洲 (B) 歐洲。



- (A) 4. 經典遊戲「真・臺灣無雙」中，每日都需解任務，以獲得當日獎勵，因此都在臺灣 (120°E) 時間 15:00 時更新。小帥趁疫情解封後，到日本東京 (135°E) 旅遊，他發現必須日本時間幾點前解完任務，才不會因更新而導致拿不到獎勵？(A) 16:00 (B) 17:00。

- (B) 5. 從臺灣出發飛往亞洲地區的重要都市，平均飛行時間為 2.55 小時，由此可見臺灣地理位置條件良好。由於近年來廉價航空的航班大幅成長，經過臺灣的航班增加，而政府可以向航空公司收取過境航路服務費（俗稱過路費）不斷增加，到疫情爆發前的民國 108 年，收取的過境航路服務費高達新臺幣 24.2 億元！這說明臺灣哪個特性造成的影響？(A) 多元生態交會的位置 (B) 交通樞紐。



年度	106 年	107 年	108 年	109 年	110 年	111 年
收入	20 億	22 億	24 億	8 億	6 億	8 億
元	5400 萬	3000 萬	1700 萬	3300 萬	4100 萬	9100 萬

- (B) 6. 圖為鄭成功進軍路線，原先直攻熱蘭遮城，但久攻不下，後由鹿耳門水道進入臺江內海，先攻取防禦較弱的普羅民遮城，再包圍熱蘭遮城，最後荷軍彈盡援絕而投降。原本扼守水道出入口的熱蘭遮城（安平古堡），為何現在已距離海岸線數公里遠？



(A) 板塊運動 (B) 泥沙淤積。

- (A) 7. 「5.4.3.2.1！」每年跨年，臺北 101 的煙火秀都是重頭戲，2023 年更是準備了 300 秒的煙火來迎接 2024 的到來！為了滿足大家拍照的需求，臺北市政府更提供了包含河濱公園、親山步道等 13 處地點，為煙火最佳拍攝點。請問這些地方最可能位於 101 大樓的哪個方位，才能拍到完整的煙火？(A) 東北 (B) 西南。



同個時間季節


- (B) 8. 明明是寒流來襲，一個臺灣卻出現圖中的狀況，當時臺灣氣溫空間分布的差異與下列何者關係最為密切？

(A) 滯留鋒面持續向北移 (B) 大陸冷氣團逐漸南下。

- (A) 9. 附表是臺灣平均逕流量的相關數據，其中何者最可能為南部區域？

月分 區域	11-04 月	05-10 月
(A)	1814.66	15668.50
(B)	5594.71	9446.95

單位：百萬立方公尺

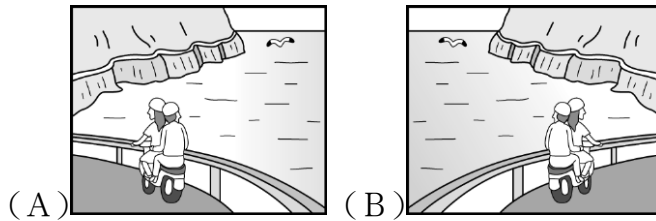


二、題組題：請閱讀以下短文並回答 10-15 題

基隆李維利用假期開始旅行，先到臺灣東部開始，記錄沿途看到的地形景觀。請在基隆李維的日記中填入他看到的地形區名稱。

- (B) 10. 甲路段經過的地形主要為下列何者？
(A) 盆地 (B) 平原。

- (B)11. 當由甲往乙地區移動時，請根據臺灣的海岸特色判斷，其沿途最常見到的海陸景觀為下列何者？

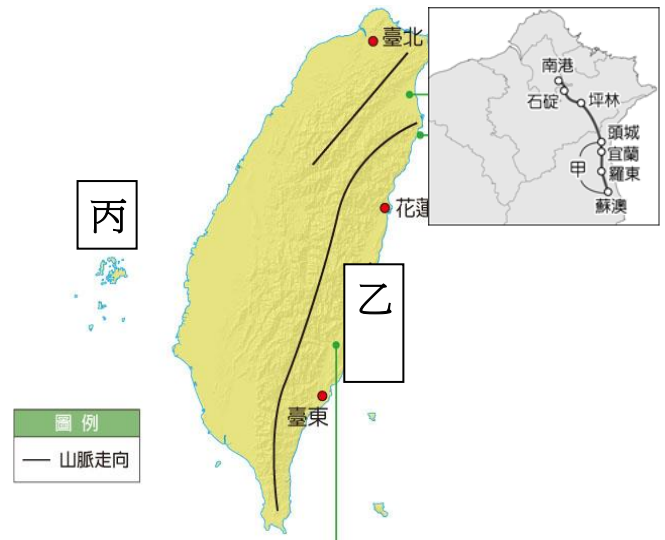


- (A)12. 在乙地區看到了板塊交界橋，全世界只有 2 座，一座在冰島，另一座在臺灣，因此特地拍照打卡，腳踏兩大板塊，感受腳下來自地球的威力！請問這時看的方向為何？

(A)由北向南 (B)由西向東。

- (A)13. 之後又到了丙島嶼，看到了一大塊被風化的玄武岩，是該島的熱門景點，被規劃為自然保留區。請問該島是何種類型島嶼？

(A)因火山作用而形成，屬於火山島
(B)因板塊運動，將原本在海中的珊瑚抬升而形成，屬於珊瑚礁島。



因為最近的天候過於極端，導致各地養殖漁業紛紛傳出災情，大量虱目魚暴斃，造成住大損失，讓漁民一邊撈心一邊淌血。

- (A)14. 請問這是哪一種災害的影響？

(A)寒害 (B)旱災。

- (B)15. 該產業因其特性而採取的措施，將可能導致何種災害？

(A)地震 (B)地層下陷。

