

新北市汐止國民中學 112 學年度第一學期九年級社會科補考題庫

一、歷史科，共 15 題：

- (A) 1. 「我看見希臘世界中其餘的國家不是參加了這一邊，就是參加了那一邊，就是那些現在沒有參加戰爭的國家，也正在準備參加。這是希臘人的歷史中最大的一次騷動，同時也影響到大部分非希臘人的世界……」文中所述，交戰的兩大陣營，其領袖分別是？

(A) 雅典、斯巴達 (B) 波斯、埃及

- (A) 2. 西元前四世紀，亞歷山大創立跨歐、亞、非的帝國，並在其征服的疆域內興建城市。附圖中的甲、乙、丙、丁，何者最可能是他所興建的城市？

(A) 甲 (B) 乙


- (B) 3. 死後等待神明執行審判之前，埃及人需要為死者做什麼準備以等待復活？

(A) 種植小麥 (B) 製作木乃伊

- (B) 4. 附圖是古埃及某項自然災害發從發生到結束得過程，而為了因應此災害所帶來的影響，古埃及人在哪項學科上具有相當高的成就？

(A) 化學 (B) 數學

- (B) 5. 附圖為某文明的代表建築，此文明的建築向來以下列哪點著稱？



(A) 華麗醒目 (B) 公共實用

- (A) 6. 有人說：「凡走過必留下痕跡。」如果想要同時找到亞歷山大帝國、羅馬帝國、阿拉伯帝國和鄂圖曼帝國統治時，所留下的歷史遺跡，可以到附圖中的哪一個地區？ (A) 甲 (B) 乙

- (A) 7. 下列哪一個伊斯蘭世界的民族，在十五世紀中葉征服巴爾幹地區，建立橫跨三大洲的帝國？

(A) 鄂圖曼土耳其人

(B) 塞爾柱土耳其人

- (B) 8. 阿拉伯人與鄂圖曼土耳其人均曾建立橫跨三洲的大帝國。右圖為幾位同學提出看法，請問：有幾位同學說法正確？

(A) 1 位 (B) 2 位

- (B) 9. 布魯特是位虔誠的信徒，相信人能否得救早已由上帝預先選定，自己所能做的只是努力工作，以現世成就來榮耀上帝。請問：他最可能是下列哪一教派的信徒？

(A) 希臘正教

(B) 喀爾文教派


- (B) 10. 不同的歷史學者對於文藝復興發展的背景有不同的見解，有一部分學者提出阿拉伯帝國的「智慧之家」貢獻極大。請問：下列何者是阿拉伯人對於文藝復興的貢獻？

(A) 阿拉伯半島商業復甦，城市興起，人們追求精緻的生活


(B) 翻譯古希臘、羅馬的書籍，引發人們的研究熱情



尼羅河氾濫期（六月到九月）



河水退去，留下肥沃的淤泥適合耕種（十月到一月）



乾燥季，適合收穫農作物（二月到五月）



關關：阿拉伯帝國興起於八世紀，鄂圖曼帝國興起於十一世紀。

小軒：阿拉伯人與鄂圖曼土耳其人皆信仰伊斯蘭教。

康康：兩者在擴張的過程中皆與拜占庭帝國爆發軍事衝突。

麻希：阿拉伯帝國所占領的歐洲部分是巴爾幹半島，鄂圖曼帝國則是占領伊比利半島。

- (A) 11. 在課堂中，老師提到有關十六世紀歐洲香料貿易的航海路線，其中航海家達伽馬是打開香料海上貿易路線的先驅者。請問：下列哪一條航線，最有可能是達伽馬的航行路線？
(A) 葡萄牙—大西洋—好望角—印度洋—印度 (B) 西班牙—大西洋—南美洲—太平洋—爪哇島
- (A) 12. 某本書上寫著：「生命、自由、財產等權利人皆有之，是上天賦予我們的，不因貧富貴賤而有所不同。若這些權利受到威脅，那人民便有權利起而反抗政府。」請問：此書最可能出自何人之手？(A) 洛克 (B) 孟德斯鳩
- (A) 13. 古希臘的亞里斯多德，提出國家有議事權、行政權、司法權，近代明確闡述分權學說的是十七世紀英國人洛克的兩篇《政府論》，而有系統的提出三權分立原則的是下列何者？
(A) 孟德斯鳩 (B) 伏爾泰。
- (A) 14. 科學革命是天才的世紀，下列何者並非科學革命所帶來的影響？
(A) 宗教成為人們的主要信仰 (B) 帶動啟蒙運動的興起
- (B) 15. 「愈來愈多的家庭先是用煤氣，然後有了電燈，最後開始使用電話；在各城市裡有了電車，後來汽車出現；工人住宅區迅速發展，以及擁有大型機器的工廠雇數千名工人，做從前必須用幾十萬個手工業者才能做的工作……。」上述情形最早可能發生在什麼地方？
(A) 十八世紀中期的法國 (B) 十八世紀末期的英國

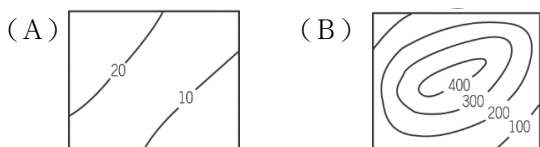
二、公民科，共 15 題：

- (B) 1. 台灣人對於排隊的熱衷從生活小事就顯露無遺，也讓許多鄉民笑稱排隊是「鬼島日常」，台灣人願意花時間排隊的 10 大原因，前三名分別為「限時限量必須排」、「搶便宜不能錯過」和「美味小吃攤必吃」。關於上述台灣特色，可用下列何者說明？
(A) 限時限量活動為店家的負向誘因 (B) 搶到便宜時，仍須付出額外的代價
- (B) 2. 進口蛋爭議引發食安危機，許多縣市學校營養午餐禁用液蛋，國產蛋買氣大漲，目前蛋價維持產地價 45.5 元、批發價 55 元來到歷史高點，至於是否再調漲蛋價，還需視產蛋率及整體產銷狀況。關於上述情形，最可能出現下列何種現象？
(A) 蛋價變貴是家庭主婦減少購買的正向誘因 (B) 基於金錢誘因，家庭主婦會減少購買數量
- (A) 3. 全台樂園一一推出國慶優惠，不少觀光遊樂園今年結合國旗元素當賣點，像是六福村推出身上穿有「中華民國國旗元素者」可享門票優惠價 499 元、義大遊樂世界雙人同行，第 2 人 10 元、遠雄海洋公園針對雙十節當日出生的壽星，可享免費入園等等。上述提及樂園主要是以何項影響選擇的因素來吸引消費者？(A) 商品價格 (B) 個人所得
- (B) 4. 「生產者」是可以決定生產行為，製造或提供商品的經營者。就上述定義判斷，下列何人才是？(A) 在台積電擔任工程師的偉笙 (B) 在滷味攤販賣雞腿的宥誠
- (B) 5. 新北地院法官與國民法官組合議庭審理季姓婦人稱不堪家暴殺夫案。國民法官首度參審，審判長說，本案量刑適中，國民法官素質與理智超乎想像。檢察官認為國民法官有聽到職業法官無法注意到觀點。辯護律師說，感受到判決有注入被告心聲與國民情感。例如，本案男性國民法官看事情較理性，會在意被家暴背後也有其他原因，不會一味同情就疏忽別的地方。就產品的類型而言，上述與下列何者相同？
(A) 桃園大溪路旁韭菜花田 (B) 醫師幫病患進行手術
- (B) 6. 自封為「芋頭教主」的法國籍 Youtuber「酷」，他的專屬頻道「Ku's dream-酷的夢」超過 160 萬人訂閱，是台灣最受歡迎的 Youtuber 之一。影片中，酷用流利的中文談文化差異，用獨特的角度探索台灣，以風趣幽默的方式介紹台灣風俗民情與美食。上述所描述的市場與下列何者相似？(A) 大潤發內湖店 (B) momo 電視購物
- (A) 7. 下列哪一種情境符合「看不見的手」？(A) 秀泰影城電影票價 (B) 台灣電力公司電價
- (B) 8. 根據「104 玩數據」分析，手搖飲、早餐、咖啡店、輕食、餐車等餐飲創業占 23% 最多，加上餐廳餐館 17%，餐飲類合占 40% 居創業類型之首，下列何者最可能是造成此結果的原因？
(A) 價格缺乏競爭，商品品質相對較差 (B) 加入門檻較低，進入市場較為容易
- (A) 9. 日前雙 11 各大超商都給出相關優惠，全家、7-11、OK、萊爾富、蝦皮店到店都有免費贈珍奶、拿鐵及咖啡折扣等好康，7-ELEVEN 霜淇淋買 1 送 1、全家霜淇淋也有 45 元嚐鮮價。上述超商所採取的競爭方式，與下列何者相同？
(A) 降低售價，增加購買意願 (B) 投入公益，善盡社會責任

- (A) 10. 喜歡哆啦 A 夢的粉絲快手刀衝全聯！12/7 前，全聯攜手風靡大小朋友的日本超人氣貓型機器人哆啦 A 夢，推出 5 款超實用生活小物，包含「捲捲萬用袋」、「無線充電面紙盒」、「夢想水晶球」、「噴霧加濕氣氛燈」和「多功能單柄電料理鍋」。文中賣場推出活動的作法，屬於下列何者？(A)重視創新的非價格競爭 (B)重視商品銷量的價格競爭
- (A) 11. 沖繩去年為迎接夏日旅遊旺季，特地推出悠遊卡相關優惠。使用悠遊聯名卡/記名悠遊卡到沖繩消費，不但省去可能的匯差，還免信用卡 1.5%海外交易手續費，如果使用的是 SuperCard 超級悠遊卡，單筆消費更不受新台幣 1,500 元的限制。此外，哩悠遊卡還可享受沖繩人氣店家買一送一的禮遇，包括國際通 Chou Chou 的豬肉蛋飯糰、MANGO CAFÉ 的芒果軟冰淇淋、POCO CAFÉ 的熱帶水果茶等等。關於上述提及的支付工具，下列敘述何者正確？(A)須注意業者可能無法履行契約，而導致的風險 (B)可在信用額度內消費，且具有延遲支付的功能
- (B) 12. 昆士蘭州是台灣旅客最喜愛的澳洲旅遊目的地，全年日照充沛、素有「陽光之州」的美稱，長榮航空為鼓勵年輕人勇敢追夢，針對海外打工度假和背包客，率先推出獨家專屬優惠票價，即日起至 2024 年 6 月 30 日止，輸入「全世界最棒工作 X 澳洲昆士蘭打工遊學」專案活動，立即享有 NT\$1,500 元折扣優惠。若小笙為此心動不已，應於澳幣兌換新台幣匯率發生甚麼變化時，前往澳洲遊學？(甲)澳幣升值(乙)澳幣貶值(丙)新台幣升值(丁)新台幣貶值 (A) 甲丙 (B) 乙丙
- (A) 13. 出門上班最重要的不外乎在工作中找到幸福感！以台灣知名航空公司「星宇航空」為例，星宇航空不只實現員工願望，提供眾人欽羨不已的員工免費票、折扣票和旅伴票，讓員工可以和最珍視的家人、伴侶及朋友攜手出國旅遊，也讓星宇航空成為求職者擠破頭也想加入的企業之一。上述公司行為與下列哪一敘述最相符？(A)透過完善福利以提高員工向心力 (B)透過教育訓練提升員工生產力
- (B) 14. 曉軒產後向公司申請育嬰留職停薪，但主管拒絕她的申請，甚至在工作上對她百般刁難。曉軒深感職場對家有幼兒的父母十分不友善，向主管機關提出檢舉，經政府調查屬實後，對該公司的違法行為開罰。關於上述內容的說明，下列何者正確？(A)政府對於違法行為可能處以 15 萬元罰金 (B)該公司行為已違反對受僱者基本權益的保障
- (A) 15. 替丈夫煮飯洗衣、守候他回家，到底是為了愛情而付出，還是因為愛情而被剝削？新垣結衣主演、2016 年最熱門的日劇《月薪嬌妻》，讓所有日本人都開始反思：原來「家庭」不是那樣理所當然，家庭主婦該得的報酬，遠超乎你想像的薪資……仔細想想，一人身兼管家、清潔工、廚師、護理師、心理諮商師，年薪 100 萬台幣，好像還嫌太少。關於上述女主角的敘述，何者正確？(A)勞動不容易以市場上價格標示 (B)對社會的貢獻與價值遠低於市場勞動

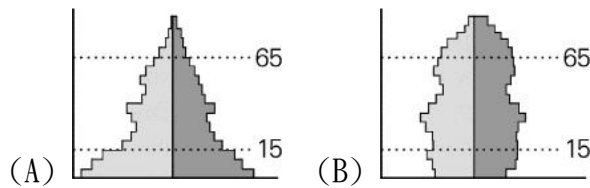
三、地理科，共 15 題：

- (A) 1. 歐洲是世界上地勢最低的一洲，平均高度只有 340 米。高度在 200 米以下的某地形約占全洲總面積的 60%，該種地形所占比重之大。請問該地形為下列何者？



- (B) 2. 義大利近日高溫不墜，天乾物燥，七月 25 日南部西西里島野火逼近位於島嶼西端的首府巴勒摩附近的國際機場，機場一度被迫關閉。午夜凌晨時分，從機場航廈與停機坪可清楚看到不遠處的橘紅色的熊熊火光照亮夜空。請問此季節氣候乾熱導致野火的原因為何？(A)西風帶北移 (B)副熱帶高壓帶北移
- (A) 3. 從 2019 年開始的新冠疫情，重創歐洲旅遊業，尤其是義大利。不過從去年開始各國陸續解封，義大利湧現了來自各國的「報復性」旅遊人潮。光是一個夏天，義大利就賺進了台幣 2 千億的觀光收入。請問在旅遊中發現的事何者「錯誤」？(A)旅遊時可以使用歐元和當地貨幣很方便 (B)拿著簽證想要過境到申根區國家很方便

- (B) 4. 法國總統馬克宏立法將退休年齡從 62 歲推遲到 64 歲，在全國各地掀起抗議浪潮，不過即使延遲到 64 歲，法國法定退休年齡跟其他工業化國家相比，仍相對年輕。目前大部分的歐洲國家領取全額退休金的年齡是 65 歲，而且逐漸提高至 67 歲。請問歐洲延後退休的原因與下列哪張人口結構有關？

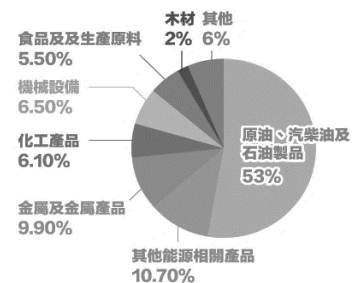


- (B) 5. CNN 報導，該國 8 月份曾指出，每天前來雅典衛城看帕德嫩神廟的遊客數量高達 2 萬 3000 人。為解決擁擠問題及保證歷史古蹟的安全，未來將實施參觀限制，每天上限 2 萬人。預約系統目前處於試行階段，預計 2024 年正式生效，屆時其他遺址也將採行電子預約。請問上述國家位在右圖何處？



(A) 乙 (B) 丁

- (B) 6. 右圖為某國出口產品比例圖，近來因該國發動戰爭，導致大部分歐美國家仍維持對該國產品的制裁，該國只好祭出新手段，限定只能用該國貨幣買石油、天然氣，等同在賤價出口石油、天然氣，其便宜價格吸引全世界各地的買家。請問上述的國家為下列何者？(A) 以色列 (B) 俄羅斯



- (B) 7. 現代地球村概念越來越普及，適應國際趨勢，學習□□語對臺灣學生是一項利多，因為台灣的邦交國大部份都使用該語言，該語言為世界第三大語言，而官方語言多為該語言的中南美洲國家也在快速進步中，很快也會成為貿易大國。只要學會該語言，未來工作會有更多選擇。請問該語言為何？(A) 阿拉伯語 (B) 西班牙語

- (A) 8. 疫情期間風行的在家工作模式，成了科技業新的工作趨勢。當勞動力不受企業總部地點束縛，專家發現，向來以科技城著稱的矽谷因人口外移而出現「甜甜圈效應」。



「甜甜圈效應」是指人們從市中心搬往郊區或其他地方，大城市的居民持續出走，也造成當地房地產崩跌、大規模裁員的現象，請問上述新聞的地點為右圖何處？

(A) C 城市 (B) E 城市

- (B) 9. 右圖的聖巴西爾大教堂是全俄羅斯最具代表的象徵，也是最具代表性的宗教建築。不過傳說教堂竣工後，當時沙皇伊凡四世弄瞎了所有興建教堂的建築師，因為他不想讓他們建出比該教堂更富麗堂皇的建築。請問該建築代表的宗教為何？

(A) 伊斯蘭教 (B) 東正教



- (A) 10. 智慧農業和機器人將為未來最具影響力的農業趨勢，美國政府支持農業科技發展，過去 10 年農業科技投資大幅成長，每年有近 1 兆美元的資金投入美國農業，農業科技市場收入居全球之冠。請問有關美國農業的敘述，下列何者「錯誤」？(A) 為集約農業 (B) 高度機械化

- (B) 11. 南極洲，位於地球最南邊也最寒冷的大洲，由於終年降雨量極低，加上 95% 以上的面積被冰雪覆蓋，猶如一大片冰封的白色沙漠。2010 年 8 月 10 日南極洲東部創下地球最冷新紀錄：攝氏零下 93.2 度，雖同為極地，但南極卻比北極要寒冷的多，請問其原因「不包含」下列何者？(A) 陸地散熱比海洋快 (B) 永夜時間比北極長
- (A) 12. 台灣邦交國吐瓦魯已經做了最壞打算，日前啟動文化遺產計畫，要以整個國家及所擁有的豐沛文化，申請聯合國教科文組織認證，成為世界文化遺產，以確保吐瓦魯的永久國家地位，即使未來國民被迫要遷徙，基本人權也必須受到國際法保護，請問吐瓦魯面臨的問題為何？(A) 海平面上升 (B) 火山噴發
- (B) 13. 某區域的鄉村人口自 1950 年代開始大舉遷徙到城市地區，目前該區域 6 億總人口中有 80% 住在城市裡，這是全球所有地區中比例最高的，但多數國家的房屋政策出現漏洞，無法應付城市人口的增加，未能控制簡陋民宅大量增加，將導致大城市中的貧民區繼續急速擴張，因此也成為世界上貧民窟最為集中的一個區域，請問上述的區域位在何處？(A) 北美洲 (B) 拉丁美洲
- (B) 14. 2018 年大洋洲某群島中的幾勞亞火山噴發，地熱活動非常活躍，還發生芮氏規模 6.9 強震，因火山噴發的岩漿蔓延，已強制撤離近萬居民，住宅區及商業區街道處處可見從裂縫冒出熔岩入侵民宅，火山爆發現場還噴出大量二氧化硫氣體，就連救難人員也難到現場搶救受害民眾。請問根據島嶼的成因可判別火山地點應在下列何者？(A) 大溪地 (B) 夏威夷
- (A) 15. 全世界每年喝掉五千億杯咖啡，咖啡是相當重要的交易商品。右圖 列出世界前十大咖啡生產國，以及 2020 年各自的產量，單位為「每袋 60 公斤咖啡豆」。右圖的甲國是全球最大的咖啡生產國，產量達 6340 萬袋，請問有關咖啡此種產業的敘述何者「錯誤」？(A) 甲國為古巴 (B) 富殖民色彩

